

МИНИСТЕРСТВО ПРОСВЕЩЕНИЯ РОССИЙСКОЙ ФЕДЕРАЦИИ

Министерство образования Оренбургской области

Управление образования администрации города Оренбурга

МОАУ "СОШ №63"

РАССМОТРЕНО

на Педагогическом
совете

протокол №1 от «30»
августа 2024 г.

СОГЛАСОВАНО

заместитель директора
по УВР



Никulina Т.А.

УТВЕРЖДЕНО

директор МОАУ "СОШ
№63"



Займак О.А.

РАБОЧАЯ ПРОГРАММА

(ID 4411390)

учебного предмета «Физика. Базовый уровень»

для обучающихся 10-11 классов

г. Оренбург 2024

ПОЯСНИТЕЛЬНАЯ ЗАПИСКА

Программа по физике базового уровня на уровне среднего общего образования разработана на основе положений и требований к результатам освоения основной образовательной программы, представленных в ФГОС СОО, а также с учётом федеральной рабочей программы воспитания и концепции преподавания учебного предмета «Физика» в образовательных организациях Российской Федерации, реализующих основные образовательные программы.

Содержание программы по физике направлено на формирование естественно-научной картины мира обучающихся 10–11 классов при обучении их физике на базовом уровне на основе системно-деятельностного подхода. Программа по физике соответствует требованиям ФГОС СОО к планируемым личностным, предметным и метапредметным результатам обучения, а также учитывает необходимость реализации межпредметных связей физики с естественно-научными учебными предметами. В ней определяются основные цели изучения физики на уровне среднего общего образования, планируемые результаты освоения курса физики: личностные, метапредметные, предметные (на базовом уровне).

Программа по физике включает:

- планируемые результаты освоения курса физики на базовом уровне, в том числе предметные результаты по годам обучения;
- содержание учебного предмета «Физика» по годам обучения.

Физика как наука о наиболее общих законах природы, выступая в качестве учебного предмета в школе, вносит существенный вклад в систему знаний об окружающем мире. Школьный курс физики – системообразующий для естественно-научных учебных предметов, поскольку физические законы лежат в основе процессов и явлений, изучаемых химией, биологией, физической географией и астрономией. Использование и активное применение физических знаний определяет характер и развитие разнообразных технологий в сфере энергетики, транспорта, освоения космоса, получения новых материалов с заданными свойствами и других. Изучение физики вносит основной вклад в формирование естественно-научной картины мира обучающихся, в формирование умений применять научный метод познания при выполнении ими учебных исследований.

В основу курса физики для уровня среднего общего образования положен ряд идей, которые можно рассматривать как принципы его построения.

Идея целостности. В соответствии с ней курс является логически завершённым, он содержит материал из всех разделов физики, включает как вопросы классической, так и современной физики.

Идея генерализации. В соответствии с ней материал курса физики объединён вокруг физических теорий. Ведущим в курсе является формирование представлений о структурных уровнях материи, веществе и поле.

Идея гуманитаризации. Её реализация предполагает использование гуманитарного потенциала физической науки, осмысление связи развития физики с развитием общества, а также с мировоззренческими, нравственными и экологическими проблемами.

Идея прикладной направленности. Курс физики предполагает знакомство с широким кругом технических и технологических приложений изученных теорий и законов.

Идея экологизации реализуется посредством введения элементов содержания, посвящённых экологическим проблемам современности, которые связаны с развитием техники и технологий, а также обсуждения проблем рационального природопользования и экологической безопасности.

Стержневыми элементами курса физики на уровне среднего общего образования являются физические теории (формирование представлений о структуре построения физической теории, роли фундаментальных законов и принципов в современных представлениях о природе, границах применимости теорий, для описания естественно-научных явлений и процессов).

Системно-деятельностный подход в курсе физики реализуется прежде всего за счёт организации экспериментальной деятельности обучающихся. Для базового уровня курса физики – это использование системы фронтальных кратковременных экспериментов и лабораторных работ, которые в программе по физике объединены в общий список ученических практических работ. Выделение в указанном перечне лабораторных работ, проводимых для контроля и оценки, осуществляется участниками образовательного процесса исходя из особенностей планирования и оснащения кабинета физики. При этом обеспечивается овладение обучающимися умениями проводить косвенные измерения, исследования зависимостей физических величин и постановку опытов по проверке предложенных гипотез.

Большое внимание уделяется решению расчётных и качественных задач. При этом для расчётных задач приоритетом являются задачи с явно заданной физической моделью, позволяющие применять изученные законы и закономерности как из одного раздела курса, так и интегрируя знания из разных разделов. Для качественных задач приоритетом являются задания на объяснение протекания физических явлений и процессов в окружающей жизни, требующие выбора физической модели для ситуации практико-ориентированного характера.

В соответствии с требованиями ФГОС СОО к материально-техническому обеспечению учебного процесса базовый уровень курса физики на уровне среднего общего образования должен изучаться в условиях предметного кабинета физики или в условиях интегрированного кабинета предметов естественно-научного цикла. В кабинете физики должно быть необходимое лабораторное оборудование для выполнения указанных в программе по физике ученических практических работ и демонстрационное оборудование.

Демонстрационное оборудование формируется в соответствии с принципом минимальной достаточности и обеспечивает постановку перечисленных в программе по физике ключевых демонстраций для исследования изучаемых явлений и процессов, эмпирических и фундаментальных законов, их технических применений.

Лабораторное оборудование для ученических практических работ формируется в виде тематических комплектов и обеспечивается в расчёте одного комплекта на двух обучающихся. Тематические комплекты лабораторного оборудования должны быть построены на комплексном использовании аналоговых и цифровых приборов, а также компьютерных измерительных систем в виде цифровых лабораторий.

Основными целями изучения физики в общем образовании являются:

- формирование интереса и стремления обучающихся к научному изучению природы, развитие их интеллектуальных и творческих способностей;
- развитие представлений о научном методе познания и формирование исследовательского отношения к окружающим явлениям;
- формирование научного мировоззрения как результата изучения основ строения материи и фундаментальных законов физики;
- формирование умений объяснять явления с использованием физических знаний и научных доказательств;
- формирование представлений о роли физики для развития других естественных наук, техники и технологий.

Достижение этих целей обеспечивается решением следующих задач в процессе изучения курса физики на уровне среднего общего образования:

- приобретение системы знаний об общих физических закономерностях, законах, теориях, включая механику, молекулярную физику, электродинамику, квантовую физику и элементы астрофизики;
- формирование умений применять теоретические знания для объяснения физических явлений в природе и для принятия практических решений в повседневной жизни;

- освоение способов решения различных задач с явно заданной физической моделью, задач, подразумевающих самостоятельное создание физической модели, адекватной условиям задачи;
- понимание физических основ и принципов действия технических устройств и технологических процессов, их влияния на окружающую среду;
- овладение методами самостоятельного планирования и проведения физических экспериментов, анализа и интерпретации информации, определения достоверности полученного результата;
- создание условий для развития умений проектно-исследовательской, творческой деятельности.

На изучение физики (базовый уровень) на уровне среднего общего образования отводится 136 часов: в 10 классе – 68 часов (2 часа в неделю), в 11 классе – 68 часов (2 часа в неделю).

Предлагаемый в программе по физике перечень лабораторных и практических работ является рекомендованным, учитель делает выбор проведения лабораторных работ и опытов с учётом индивидуальных особенностей обучающихся.

СОДЕРЖАНИЕ ОБУЧЕНИЯ

10 КЛАСС

Раздел 1. Физика и методы научного познания

Физика – наука о природе. Научные методы познания окружающего мира. Роль эксперимента и теории в процессе познания природы. Эксперимент в физике.

Моделирование физических явлений и процессов. Научные гипотезы. Физические законы и теории. Границы применимости физических законов. Принцип соответствия.

Роль и место физики в формировании современной научной картины мира, в практической деятельности людей.

Демонстрации

Аналоговые и цифровые измерительные приборы, компьютерные датчики.

Раздел 2. Механика

Тема 1. Кинематика

Механическое движение. Относительность механического движения. Система отсчёта. Траектория.

Перемещение, скорость (средняя скорость, мгновенная скорость) и ускорение материальной точки, их проекции на оси системы координат. Сложение перемещений и сложение скоростей.

Равномерное и равноускоренное прямолинейное движение. Графики зависимости координат, скорости, ускорения, пути и перемещения материальной точки от времени.

Свободное падение. Ускорение свободного падения.

Криволинейное движение. Движение материальной точки по окружности с постоянной по модулю скоростью. Угловая скорость, линейная скорость. Период и частота обращения. Центробежное ускорение.

Технические устройства и практическое применение: спидометр, движение снарядов, цепные и ремённые передачи.

Демонстрации

Модель системы отсчёта, иллюстрация кинематических характеристик движения.

Преобразование движений с использованием простых механизмов.

Падение тел в воздухе и в разреженном пространстве.

Наблюдение движения тела, брошенного под углом к горизонту и горизонтально.

Измерение ускорения свободного падения.

Направление скорости при движении по окружности.

Ученический эксперимент, лабораторные работы

Изучение неравномерного движения с целью определения мгновенной скорости.

Исследование соотношения между путями, пройденными телом за последовательные равные промежутки времени при равноускоренном движении с начальной скоростью, равной нулю.

Изучение движения шарика в вязкой жидкости.

Изучение движения тела, брошенного горизонтально.

Тема 2. Динамика

Принцип относительности Галилея. Первый закон Ньютона. Инерциальные системы отсчёта.

Масса тела. Сила. Принцип суперпозиции сил. Второй закон Ньютона для материальной точки. Третий закон Ньютона для материальных точек.

Закон всемирного тяготения. Сила тяжести. Первая космическая скорость.

Сила упругости. Закон Гука. Вес тела.

Трение. Виды трения (покоя, скольжения, качения). Сила трения. Сухое трение. Сила трения скольжения и сила трения покоя. Коэффициент трения. Сила сопротивления при движении тела в жидкости или газе.

Поступательное и вращательное движение абсолютно твёрдого тела.

Момент силы относительно оси вращения. Плечо силы. Условия равновесия твёрдого тела.

Технические устройства и практическое применение: подшипники, движение искусственных спутников.

Демонстрации

Явление инерции.

Сравнение масс взаимодействующих тел.

Второй закон Ньютона.

Измерение сил.

Сложение сил.

Зависимость силы упругости от деформации.

Невесомость. Вес тела при ускоренном подъёме и падении.

Сравнение сил трения покоя, качения и скольжения.

Условия равновесия твёрдого тела. Виды равновесия.

Ученический эксперимент, лабораторные работы

Изучение движения бруска по наклонной плоскости.

Исследование зависимости сил упругости, возникающих в пружине и резиновом образце, от их деформации.

Исследование условий равновесия твёрдого тела, имеющего ось вращения.

Тема 3. Законы сохранения в механике

Импульс материальной точки (тела), системы материальных точек. Импульс силы и изменение импульса тела. Закон сохранения импульса. Реактивное движение.

Работа силы. Мощность силы.

Кинетическая энергия материальной точки. Теорема об изменении кинетической энергии.

Потенциальная энергия. Потенциальная энергия упруго деформированной пружины. Потенциальная энергия тела вблизи поверхности Земли.

Потенциальные и непотенциальные силы. Связь работы непотенциальных сил с изменением механической энергии системы тел. Закон сохранения механической энергии.

Упругие и неупругие столкновения.

Технические устройства и практическое применение: водомёт, копёр, пружинный пистолет, движение ракет.

Демонстрации

Закон сохранения импульса.

Реактивное движение.

Переход потенциальной энергии в кинетическую и обратно.

Ученический эксперимент, лабораторные работы

Изучение абсолютно неупругого удара с помощью двух одинаковых нитяных маятников.

Исследование связи работы силы с изменением механической энергии тела на примере растяжения резинового жгута.

Раздел 3. Молекулярная физика и термодинамика

Тема 1. Основы молекулярно-кинетической теории

Основные положения молекулярно-кинетической теории и их опытное обоснование. Броуновское движение. Диффузия. Характер движения и взаимодействия частиц вещества. Модели строения газов, жидкостей и твёрдых тел и объяснение свойств вещества на основе этих моделей. Масса и размеры молекул. Количество вещества. Постоянная Авогадро.

Тепловое равновесие. Температура и её измерение. Шкала температур Цельсия.

Модель идеального газа. Основное уравнение молекулярно-кинетической теории идеального газа. Абсолютная температура как мера средней кинетической энергии теплового движения частиц газа. Шкала температур Кельвина. Газовые законы. Уравнение Менделеева–Клапейрона. Закон Дальтона. Изопроцессы в идеальном газе с постоянным количеством вещества. Графическое представление изопроцессов: изотерма, изохора, изобара.

Технические устройства и практическое применение: термометр, барометр.

Демонстрации

Опыты, доказывающие дискретное строение вещества, фотографии молекул органических соединений.

Опыты по диффузии жидкостей и газов.

Модель броуновского движения.

Модель опыта Штерна.

Опыты, доказывающие существование межмолекулярного взаимодействия.

Модель, иллюстрирующая природу давления газа на стенки сосуда.

Опыты, иллюстрирующие уравнение состояния идеального газа, изопроцессы.

Ученический эксперимент, лабораторные работы

Определение массы воздуха в классной комнате на основе измерений объёма комнаты, давления и температуры воздуха в ней.

Исследование зависимости между параметрами состояния разреженного газа.

Тема 2. Основы термодинамики

Термодинамическая система. Внутренняя энергия термодинамической системы и способы её изменения. Количество теплоты и работа. Внутренняя энергия одноатомного идеального газа. Виды теплопередачи: теплопроводность, конвекция, излучение. Удельная теплоёмкость вещества. Количество теплоты при теплопередаче.

Понятие об адиабатном процессе. Первый закон термодинамики. Применение первого закона термодинамики к изопроцессам. Графическая интерпретация работы газа.

Второй закон термодинамики. Необратимость процессов в природе.

Тепловые машины. Принципы действия тепловых машин. Преобразования энергии в тепловых машинах. Коэффициент полезного действия тепловой машины. Цикл Карно и его коэффициент полезного действия. Экологические проблемы теплоэнергетики.

Технические устройства и практическое применение: двигатель внутреннего сгорания, бытовой холодильник, кондиционер.

Демонстрации

Изменение внутренней энергии тела при совершении работы: вылет пробки из бутылки под действием сжатого воздуха, нагревание эфира в латунной трубке путём трения (видеодемонстрация).

Изменение внутренней энергии (температуры) тела при теплопередаче.

Опыт по адиабатному расширению воздуха (опыт с воздушным огнём).

Модели паровой турбины, двигателя внутреннего сгорания, реактивного двигателя.

Ученический эксперимент, лабораторные работы

Измерение удельной теплоёмкости.

Тема 3. Агрегатные состояния вещества. Фазовые переходы

Парообразование и конденсация. Испарение и кипение. Абсолютная и относительная влажность воздуха. Насыщенный пар. Удельная теплота парообразования. Зависимость температуры кипения от давления.

Твёрдое тело. Кристаллические и аморфные тела. Анизотропия свойств кристаллов. Жидкие кристаллы. Современные материалы. Плавление и кристаллизация. Удельная теплота плавления. Сублимация.

Уравнение теплового баланса.

Технические устройства и практическое применение: гигрометр и психрометр, калориметр, технологии получения современных материалов, в том числе наноматериалов, и нанотехнологии.

Демонстрации

Свойства насыщенных паров.

Кипение при пониженном давлении.

Способы измерения влажности.

Наблюдение нагревания и плавления кристаллического вещества.

Демонстрация кристаллов.

Ученический эксперимент, лабораторные работы

Измерение относительной влажности воздуха.

Раздел 4. Электродинамика

Тема 1. Электростатика

Электризация тел. Электрический заряд. Два вида электрических зарядов. Проводники, диэлектрики и полупроводники. Закон сохранения электрического заряда.

Взаимодействие зарядов. Закон Кулона. Точечный электрический заряд. Электрическое поле. Напряжённость электрического поля. Принцип

суперпозиции электрических полей. Линии напряжённости электрического поля.

Работа сил электростатического поля. Потенциал. Разность потенциалов. Проводники и диэлектрики в электростатическом поле. Диэлектрическая проницаемость.

Емкость. Конденсатор. Емкость плоского конденсатора. Энергия заряженного конденсатора.

Технические устройства и практическое применение: электроскоп, электрометр, электростатическая защита, заземление электроприборов, конденсатор, копировальный аппарат, струйный принтер.

Демонстрации

Устройство и принцип действия электрометра.

Взаимодействие наэлектризованных тел.

Электрическое поле заряженных тел.

Проводники в электростатическом поле.

Электростатическая защита.

Диэлектрики в электростатическом поле.

Зависимость емкости плоского конденсатора от площади пластин, расстояния между ними и диэлектрической проницаемости.

Энергия заряженного конденсатора.

Ученический эксперимент, лабораторные работы

Измерение емкости конденсатора.

Тема 2. Постоянный электрический ток. Токи в различных средах

Электрический ток. Условия существования электрического тока. Источники тока. Сила тока. Постоянный ток.

Напряжение. Закон Ома для участка цепи.

Электрическое сопротивление. Удельное сопротивление вещества. Последовательное, параллельное, смешанное соединение проводников.

Работа электрического тока. Закон Джоуля–Ленца. Мощность электрического тока.

Электродвижущая сила и внутреннее сопротивление источника тока. Закон Ома для полной (замкнутой) электрической цепи. Короткое замыкание.

Электронная проводимость твердых металлов. Зависимость сопротивления металлов от температуры. Сверхпроводимость.

Электрический ток в вакууме. Свойства электронных пучков.

Полупроводники. Собственная и примесная проводимость полупроводников. Свойства p–n-перехода. Полупроводниковые приборы.

Электрический ток в растворах и расплавах электролитов. Электролитическая диссоциация. Электролиз.

Электрический ток в газах. Самостоятельный и несамостоятельный разряд. Молния. Плазма.

Технические устройства и практическое применение: амперметр, вольтметр, реостат, источники тока, электронагревательные приборы, электроосветительные приборы, термометр сопротивления, вакуумный диод, термисторы и фоторезисторы, полупроводниковый диод, гальваника.

Демонстрации

Измерение силы тока и напряжения.

Зависимость сопротивления цилиндрических проводников от длины, площади поперечного сечения и материала.

Смешанное соединение проводников.

Прямое измерение электродвижущей силы. Короткое замыкание гальванического элемента и оценка внутреннего сопротивления.

Зависимость сопротивления металлов от температуры.

Проводимость электролитов.

Искровой разряд и проводимость воздуха.

Односторонняя проводимость диода.

Ученический эксперимент, лабораторные работы

Изучение смешанного соединения резисторов.

Измерение электродвижущей силы источника тока и его внутреннего сопротивления.

Наблюдение электролиза.

Межпредметные связи

Изучение курса физики базового уровня в 10 классе осуществляется с учётом содержательных межпредметных связей с курсами математики, биологии, химии, географии и технологии.

Межпредметные понятия, связанные с изучением методов научного познания: явление, научный факт, гипотеза, физическая величина, закон, теория, наблюдение, эксперимент, моделирование, модель, измерение.

Математика: решение системы уравнений, линейная функция, парабола, гиперболы, их графики и свойства, тригонометрические функции: синус, косинус, тангенс, котангенс, основное тригонометрическое тождество, векторы и их проекции на оси координат, сложение векторов.

Биология: механическое движение в живой природе, диффузия, осмос, теплообмен живых организмов (виды теплопередачи, тепловое равновесие), электрические явления в живой природе.

Химия: дискретное строение вещества, строение атомов и молекул, моль вещества, молярная масса, тепловые свойства твёрдых тел, жидкостей и газов,

электрические свойства металлов, электролитическая диссоциация, гальваника.

География: влажность воздуха, ветры, барометр, термометр.

Технология: преобразование движений с использованием механизмов, учёт трения в технике, подшипники, использование закона сохранения импульса в технике (ракета, водомёт и другие), двигатель внутреннего сгорания, паровая турбина, бытовой холодильник, кондиционер, технологии получения современных материалов, в том числе наноматериалов, и нанотехнологии, электростатическая защита, заземление электроприборов, ксерокс, струйный принтер, электронагревательные приборы, электроосветительные приборы, гальваника.

11 КЛАСС

Раздел 4. Электродинамика

Тема 3. Магнитное поле. Электромагнитная индукция

Постоянные магниты. Взаимодействие постоянных магнитов. Магнитное поле. Вектор магнитной индукции. Принцип суперпозиции магнитных полей. Линии магнитной индукции. Картина линий магнитной индукции поля постоянных магнитов.

Магнитное поле проводника с током. Картина линий индукции магнитного поля длинного прямого проводника и замкнутого кольцевого проводника, катушки с током. Опыт Эрстеда. Взаимодействие проводников с током.

Сила Ампера, её модуль и направление.

Сила Лоренца, её модуль и направление. Движение заряженной частицы в однородном магнитном поле. Работа силы Лоренца.

Явление электромагнитной индукции. Поток вектора магнитной индукции. Электродвижущая сила индукции. Закон электромагнитной индукции Фарадея.

Вихревое электрическое поле. Электродвижущая сила индукции в проводнике, движущемся поступательно в однородном магнитном поле.

Правило Ленца.

Индуктивность. Явление самоиндукции. Электродвижущая сила самоиндукции.

Энергия магнитного поля катушки с током.

Электромагнитное поле.

Технические устройства и практическое применение: постоянные магниты, электромагниты, электродвигатель, ускорители элементарных частиц, индукционная печь.

Демонстрации

Опыт Эрстеда.

Отклонение электронного пучка магнитным полем.

Линии индукции магнитного поля.

Взаимодействие двух проводников с током.

Сила Ампера.

Действие силы Лоренца на ионы электролита.

Явление электромагнитной индукции.

Правило Ленца.

Зависимость электродвижущей силы индукции от скорости изменения магнитного потока.

Явление самоиндукции.

Ученический эксперимент, лабораторные работы

Изучение магнитного поля катушки с током.

Исследование действия постоянного магнита на рамку с током.

Исследование явления электромагнитной индукции.

Раздел 5. Колебания и волны

Тема 1. Механические и электромагнитные колебания

Колебательная система. Свободные механические колебания. Гармонические колебания. Период, частота, амплитуда и фаза колебаний. Пружинный маятник. Математический маятник. Уравнение гармонических колебаний. Превращение энергии при гармонических колебаниях.

Колебательный контур. Свободные электромагнитные колебания в идеальном колебательном контуре. Аналогия между механическими и электромагнитными колебаниями. Формула Томсона. Закон сохранения энергии в идеальном колебательном контуре.

Представление о затухающих колебаниях. Вынужденные механические колебания. Резонанс. Вынужденные электромагнитные колебания.

Переменный ток. Синусоидальный переменный ток. Мощность переменного тока. Амплитудное и действующее значение силы тока и напряжения.

Трансформатор. Производство, передача и потребление электрической энергии. Экологические риски при производстве электроэнергии. Культура использования электроэнергии в повседневной жизни.

Технические устройства и практическое применение: электрический звонок, генератор переменного тока, линии электропередач.

Демонстрации

Исследование параметров колебательной системы (пружинный или математический маятник).

Наблюдение затухающих колебаний.

Исследование свойств вынужденных колебаний.

Наблюдение резонанса.

Свободные электромагнитные колебания.

Осциллограммы (зависимости силы тока и напряжения от времени) для электромагнитных колебаний.

Резонанс при последовательном соединении резистора, катушки индуктивности и конденсатора.

Модель линии электропередачи.

Ученический эксперимент, лабораторные работы

Исследование зависимости периода малых колебаний груза на нити от длины нити и массы груза.

Исследование переменного тока в цепи из последовательно соединённых конденсатора, катушки и резистора.

Тема 2. Механические и электромагнитные волны

Механические волны, условия распространения. Период. Скорость распространения и длина волны. Поперечные и продольные волны. Интерференция и дифракция механических волн.

Звук. Скорость звука. Громкость звука. Высота тона. Тембр звука.

Электромагнитные волны. Условия излучения электромагнитных волн. Взаимная ориентация векторов E , B , V в электромагнитной волне. Свойства электромагнитных волн: отражение, преломление, поляризация, дифракция, интерференция. Скорость электромагнитных волн.

Шкала электромагнитных волн. Применение электромагнитных волн в технике и быту.

Принципы радиосвязи и телевидения. Радиолокация.

Электромагнитное загрязнение окружающей среды.

Технические устройства и практическое применение: музыкальные инструменты, ультразвуковая диагностика в технике и медицине, радар, радиоприёмник, телевизор, антенна, телефон, СВЧ-печь.

Демонстрации

Образование и распространение поперечных и продольных волн.

Колеблущееся тело как источник звука.

Наблюдение отражения и преломления механических волн.

Наблюдение интерференции и дифракции механических волн.

Звуковой резонанс.

Наблюдение связи громкости звука и высоты тона с амплитудой и частотой колебаний.

Исследование свойств электромагнитных волн: отражение, преломление, поляризация, дифракция, интерференция.

Тема 3. Оптика

Геометрическая оптика. Прямолинейное распространение света в однородной среде. Луч света. Точечный источник света.

Отражение света. Законы отражения света. Построение изображений в плоском зеркале.

Преломление света. Законы преломления света. Абсолютный показатель преломления. Полное внутреннее отражение. Предельный угол полного внутреннего отражения.

Дисперсия света. Сложный состав белого света. Цвет.

Собирающие и рассеивающие линзы. Тонкая линза. Фокусное расстояние и оптическая сила тонкой линзы. Построение изображений в собирающих и рассеивающих линзах. Формула тонкой линзы. Увеличение, даваемое линзой.

Пределы применимости геометрической оптики.

Волновая оптика. Интерференция света. Когерентные источники. Условия наблюдения максимумов и минимумов в интерференционной картине от двух синфазных когерентных источников.

Дифракция света. Дифракционная решётка. Условие наблюдения главных максимумов при падении монохроматического света на дифракционную решётку.

Поляризация света.

Технические устройства и практическое применение: очки, лупа, фотоаппарат, проекционный аппарат, микроскоп, телескоп, волоконная оптика, дифракционная решётка, поляроид.

Демонстрации

Прямолинейное распространение, отражение и преломление света. Оптические приборы.

Полное внутреннее отражение. Модель световода.

Исследование свойств изображений в линзах.

Модели микроскопа, телескопа.

Наблюдение интерференции света.

Наблюдение дифракции света.

Наблюдение дисперсии света.

Получение спектра с помощью призмы.

Получение спектра с помощью дифракционной решётки.

Наблюдение поляризации света.

Ученический эксперимент, лабораторные работы

Измерение показателя преломления стекла.

Исследование свойств изображений в линзах.
Наблюдение дисперсии света.

Раздел 6. Основы специальной теории относительности

Границы применимости классической механики. Постулаты специальной теории относительности: инвариантность модуля скорости света в вакууме, принцип относительности Эйнштейна.

Относительность одновременности. Замедление времени и сокращение длины.

Энергия и импульс релятивистской частицы.

Связь массы с энергией и импульсом релятивистской частицы. Энергия покоя.

Раздел 7. Квантовая физика

Тема 1. Элементы квантовой оптики

Фотоны. Формула Планка связи энергии фотона с его частотой. Энергия и импульс фотона.

Открытие и исследование фотоэффекта. опыты А. Г. Столетова. Законы фотоэффекта. Уравнение Эйнштейна для фотоэффекта. «Красная граница» фотоэффекта.

Давление света. опыты П. Н. Лебедева.

Химическое действие света.

Технические устройства и практическое применение: фотоэлемент, фотодатчик, солнечная батарея, светодиод.

Демонстрации

Фотоэффект на установке с цинковой пластиной.

Исследование законов внешнего фотоэффекта.

Светодиод.

Солнечная батарея.

Тема 2. Строение атома

Модель атома Томсона. опыты Резерфорда по рассеянию α -частиц. Планетарная модель атома. Постулаты Бора. Излучение и поглощение фотонов при переходе атома с одного уровня энергии на другой. Виды спектров. Спектр уровней энергии атома водорода.

Волновые свойства частиц. Волны де Бройля. Корпускулярно-волновой дуализм.

Спонтанное и вынужденное излучение.

Технические устройства и практическое применение: спектральный анализ (спектроскоп), лазер, квантовый компьютер.

Демонстрации

Модель опыта Резерфорда.

Определение длины волны лазера.

Наблюдение линейчатых спектров излучения.

Лазер.

Ученический эксперимент, лабораторные работы

Наблюдение линейчатого спектра.

Тема 3. Атомное ядро

Эксперименты, доказывающие сложность строения ядра. Открытие радиоактивности. Опыты Резерфорда по определению состава радиоактивного излучения. Свойства альфа-, бета-, гамма-излучения. Влияние радиоактивности на живые организмы.

Открытие протона и нейтрона. Нуклонная модель ядра Гейзенберга–Иваненко. Заряд ядра. Массовое число ядра. Изотопы.

Альфа-распад. Электронный и позитронный бета-распад. Гамма-излучение. Закон радиоактивного распада.

Энергия связи нуклонов в ядре. Ядерные силы. Дефект массы ядра.

Ядерные реакции. Деление и синтез ядер.

Ядерный реактор. Термоядерный синтез. Проблемы и перспективы ядерной энергетики. Экологические аспекты ядерной энергетики.

Элементарные частицы. Открытие позитрона.

Методы наблюдения и регистрации элементарных частиц.

Фундаментальные взаимодействия. Единство физической картины мира.

Технические устройства и практическое применение: дозиметр, камера Вильсона, ядерный реактор, атомная бомба.

Демонстрации

Счётчик ионизирующих частиц.

Ученический эксперимент, лабораторные работы

Исследование треков частиц (по готовым фотографиям).

Раздел 8. Элементы астрономии и астрофизики

Этапы развития астрономии. Прикладное и мировоззренческое значение астрономии.

Вид звёздного неба. Созвездия, яркие звёзды, планеты, их видимое движение.

Солнечная система.

Солнце. Солнечная активность. Источник энергии Солнца и звёзд. Звёзды, их основные характеристики. Диаграмма «спектральный класс – светимость». Звёзды главной последовательности. Зависимость «масса – светимость» для звёзд главной последовательности. Внутреннее строение

звёзд. Современные представления о происхождении и эволюции Солнца и звёзд. Этапы жизни звёзд.

Млечный Путь – наша Галактика. Положение и движение Солнца в Галактике. Типы галактик. Радиогалактики и квазары. Чёрные дыры в ядрах галактик.

Вселенная. Расширение Вселенной. Закон Хаббла. Разбегание галактик. Теория Большого взрыва. Реликтовое излучение.

Масштабная структура Вселенной. Метагалактика.

Нерешённые проблемы астрономии.

Ученические наблюдения

Наблюдения невооружённым глазом с использованием компьютерных приложений для определения положения небесных объектов на конкретную дату: основные созвездия Северного полушария и яркие звёзды.

Наблюдения в телескоп Луны, планет, Млечного Пути.

Обобщающее повторение

Роль физики и астрономии в экономической, технологической, социальной и этической сферах деятельности человека, роль и место физики и астрономии в современной научной картине мира, роль физической теории в формировании представлений о физической картине мира, место физической картины мира в общем ряду современных естественно-научных представлений о природе.

Межпредметные связи

Изучение курса физики базового уровня в 11 классе осуществляется с учётом содержательных межпредметных связей с курсами математики, биологии, химии, географии и технологии.

Межпредметные понятия, связанные с изучением методов научного познания: явление, научный факт, гипотеза, физическая величина, закон, теория, наблюдение, эксперимент, моделирование, модель, измерение.

Математика: решение системы уравнений, тригонометрические функции: синус, косинус, тангенс, котангенс, основное тригонометрическое тождество, векторы и их проекции на оси координат, сложение векторов, производные элементарных функций, признаки подобия треугольников, определение площади плоских фигур и объёма тел.

Биология: электрические явления в живой природе, колебательные движения в живой природе, оптические явления в живой природе, действие радиации на живые организмы.

Химия: строение атомов и молекул, кристаллическая структура твёрдых тел, механизмы образования кристаллической решётки, спектральный анализ.

География: магнитные полюса Земли, залежи магнитных руд, фотосъёмка земной поверхности, предсказание землетрясений.

Технология: линии электропередач, генератор переменного тока, электродвигатель, индукционная печь, радар, радиоприёмник, телевизор, антенна, телефон, СВЧ-печь, проекционный аппарат, волоконная оптика, солнечная батарея.

ПЛАНИРУЕМЫЕ РЕЗУЛЬТАТЫ ОСВОЕНИЯ ПРОГРАММЫ ПО ФИЗИКЕ НА УРОВНЕ СРЕДНЕГО ОБЩЕГО ОБРАЗОВАНИЯ

Освоение учебного предмета «Физика» на уровне среднего общего образования (базовый уровень) должно обеспечить достижение следующих личностных, метапредметных и предметных образовательных результатов.

ЛИЧНОСТНЫЕ РЕЗУЛЬТАТЫ

Личностные результаты освоения учебного предмета «Физика» должны отражать готовность и способность обучающихся руководствоваться сформированной внутренней позицией личности, системой ценностных ориентаций, позитивных внутренних убеждений, соответствующих традиционным ценностям российского общества, расширение жизненного опыта и опыта деятельности в процессе реализации основных направлений воспитательной деятельности, в том числе в части:

1) гражданского воспитания:

сформированность гражданской позиции обучающегося как активного и ответственного члена российского общества;

принятие традиционных общечеловеческих гуманистических и демократических ценностей;

готовность вести совместную деятельность в интересах гражданского общества, участвовать в самоуправлении в образовательной организации;

умение взаимодействовать с социальными институтами в соответствии с их функциями и назначением;

готовность к гуманитарной и волонтерской деятельности;

2) патриотического воспитания:

сформированность российской гражданской идентичности, патриотизма; ценностное отношение к государственным символам, достижениям российских учёных в области физики и техники;

3) духовно-нравственного воспитания:

сформированность нравственного сознания, этического поведения;

способность оценивать ситуацию и принимать осознанные решения, ориентируясь на морально-нравственные нормы и ценности, в том числе в деятельности учёного;

осознание личного вклада в построение устойчивого будущего;

4) эстетического воспитания:

эстетическое отношение к миру, включая эстетику научного творчества, присущего физической науке;

5) трудового воспитания:

интерес к различным сферам профессиональной деятельности, в том числе связанным с физикой и техникой, умение совершать осознанный выбор будущей профессии и реализовывать собственные жизненные планы;

готовность и способность к образованию и самообразованию в области физики на протяжении всей жизни;

б) экологического воспитания:

сформированность экологической культуры, осознание глобального характера экологических проблем;

планирование и осуществление действий в окружающей среде на основе знания целей устойчивого развития человечества;

расширение опыта деятельности экологической направленности на основе имеющихся знаний по физике;

7) ценности научного познания:

сформированность мировоззрения, соответствующего современному уровню развития физической науки;

осознание ценности научной деятельности, готовность в процессе изучения физики осуществлять проектную и исследовательскую деятельность индивидуально и в группе.

МЕТАПРЕДМЕТНЫЕ РЕЗУЛЬТАТЫ

Познавательные универсальные учебные действия

Базовые логические действия:

самостоятельно формулировать и актуализировать проблему, рассматривать её всесторонне;

определять цели деятельности, задавать параметры и критерии их достижения;

выявлять закономерности и противоречия в рассматриваемых физических явлениях;

разрабатывать план решения проблемы с учётом анализа имеющихся материальных и нематериальных ресурсов;

вносить коррективы в деятельность, оценивать соответствие результатов целям, оценивать риски последствий деятельности;

координировать и выполнять работу в условиях реального, виртуального и комбинированного взаимодействия;

развивать креативное мышление при решении жизненных проблем.

Базовые исследовательские действия:

владеть научной терминологией, ключевыми понятиями и методами физической науки;

владеть навыками учебно-исследовательской и проектной деятельности в области физики, способностью и готовностью к самостоятельному поиску методов решения задач физического содержания, применению различных методов познания;

владеть видами деятельности по получению нового знания, его интерпретации, преобразованию и применению в различных учебных ситуациях, в том числе при создании учебных проектов в области физики;

выявлять причинно-следственные связи и актуализировать задачу, выдвигать гипотезу её решения, находить аргументы для доказательства своих утверждений, задавать параметры и критерии решения;

анализировать полученные в ходе решения задачи результаты, критически оценивать их достоверность, прогнозировать изменение в новых условиях;

ставить и формулировать собственные задачи в образовательной деятельности, в том числе при изучении физики;

давать оценку новым ситуациям, оценивать приобретённый опыт;

уметь переносить знания по физике в практическую область жизнедеятельности;

уметь интегрировать знания из разных предметных областей;

выдвигать новые идеи, предлагать оригинальные подходы и решения;

ставить проблемы и задачи, допускающие альтернативные решения.

Работа с информацией:

владеть навыками получения информации физического содержания из источников разных типов, самостоятельно осуществлять поиск, анализ, систематизацию и интерпретацию информации различных видов и форм представления;

оценивать достоверность информации;

использовать средства информационных и коммуникационных технологий в решении когнитивных, коммуникативных и организационных задач с соблюдением требований эргономики, техники безопасности, гигиены, ресурсосбережения, правовых и этических норм, норм информационной безопасности;

создавать тексты физического содержания в различных форматах с учётом назначения информации и целевой аудитории, выбирая оптимальную форму представления и визуализации.

Коммуникативные универсальные учебные действия:

осуществлять общение на уроках физики и во внеурочной деятельности;

распознавать предпосылки конфликтных ситуаций и смягчать конфликты;

развёрнуто и логично излагать свою точку зрения с использованием языковых средств;

понимать и использовать преимущества командной и индивидуальной работы;

выбирать тематику и методы совместных действий с учётом общих интересов и возможностей каждого члена коллектива;

принимать цели совместной деятельности, организовывать и координировать действия по её достижению: составлять план действий, распределять роли с учётом мнений участников, обсуждать результаты совместной работы;

оценивать качество своего вклада и каждого участника команды в общий результат по разработанным критериям;

предлагать новые проекты, оценивать идеи с позиции новизны, оригинальности, практической значимости;

осуществлять позитивное стратегическое поведение в различных ситуациях, проявлять творчество и воображение, быть инициативным.

Регулятивные универсальные учебные действия

Самоорганизация:

самостоятельно осуществлять познавательную деятельность в области физики и астрономии, выявлять проблемы, ставить и формулировать собственные задачи;

самостоятельно составлять план решения расчётных и качественных задач, план выполнения практической работы с учётом имеющихся ресурсов, собственных возможностей и предпочтений;

давать оценку новым ситуациям;

расширять рамки учебного предмета на основе личных предпочтений;

делать осознанный выбор, аргументировать его, брать на себя ответственность за решение;

оценивать приобретённый опыт;

способствовать формированию и проявлению эрудиции в области физики, постоянно повышать свой образовательный и культурный уровень.

Самоконтроль, эмоциональный интеллект:

давать оценку новым ситуациям, вносить коррективы в деятельность, оценивать соответствие результатов целям;

владеть навыками познавательной рефлексии как осознания совершаемых действий и мыслительных процессов, их результатов и оснований;

использовать приёмы рефлексии для оценки ситуации, выбора верного решения;

уметь оценивать риски и своевременно принимать решения по их снижению;

принимать мотивы и аргументы других при анализе результатов деятельности;

принимать себя, понимая свои недостатки и достоинства;

принимать мотивы и аргументы других при анализе результатов деятельности;

признавать своё право и право других на ошибки.

В процессе достижения личностных результатов освоения программы по физике для уровня среднего общего образования у обучающихся совершенствуется эмоциональный интеллект, предполагающий сформированность:

самосознания, включающего способность понимать своё эмоциональное состояние, видеть направления развития собственной эмоциональной сферы, быть уверенным в себе;

саморегулирования, включающего самоконтроль, умение принимать ответственность за своё поведение, способность адаптироваться к эмоциональным изменениям и проявлять гибкость, быть открытым новому;

внутренней мотивации, включающей стремление к достижению цели и успеху, оптимизм, инициативность, умение действовать исходя из своих возможностей;

эмпатии, включающей способность понимать эмоциональное состояние других, учитывать его при осуществлении общения, способность к сочувствию и сопереживанию;

социальных навыков, включающих способность выстраивать отношения с другими людьми, заботиться, проявлять интерес и разрешать конфликты.

ПРЕДМЕТНЫЕ РЕЗУЛЬТАТЫ

К концу обучения в **10 классе** предметные результаты на базовом уровне должны отражать сформированность у обучающихся умений:

демонстрировать на примерах роль и место физики в формировании современной научной картины мира, в развитии современной техники и технологий, в практической деятельности людей;

учитывать границы применения изученных физических моделей: материальная точка, инерциальная система отсчёта, абсолютно твёрдое тело, идеальный газ, модели строения газов, жидкостей и твёрдых тел, точечный электрический заряд при решении физических задач;

распознавать физические явления (процессы) и объяснять их на основе законов механики, молекулярно-кинетической теории строения вещества и

электродинамики: равномерное и равноускоренное прямолинейное движение, свободное падение тел, движение по окружности, инерция, взаимодействие тел, диффузия, броуновское движение, строение жидкостей и твёрдых тел, изменение объёма тел при нагревании (охлаждении), тепловое равновесие, испарение, конденсация, плавление, кристаллизация, кипение, влажность воздуха, повышение давления газа при его нагревании в закрытом сосуде, связь между параметрами состояния газа в изопроцессах, электризация тел, взаимодействие зарядов;

описывать механическое движение, используя физические величины: координата, путь, перемещение, скорость, ускорение, масса тела, сила, импульс тела, кинетическая энергия, потенциальная энергия, механическая работа, механическая мощность; при описании правильно трактовать физический смысл используемых величин, их обозначения и единицы, находить формулы, связывающие данную физическую величину с другими величинами;

описывать изученные тепловые свойства тел и тепловые явления, используя физические величины: давление газа, температура, средняя кинетическая энергия хаотического движения молекул, среднеквадратичная скорость молекул, количество теплоты, внутренняя энергия, работа газа, коэффициент полезного действия теплового двигателя; при описании правильно трактовать физический смысл используемых величин, их обозначения и единицы, находить формулы, связывающие данную физическую величину с другими величинами;

описывать изученные электрические свойства вещества и электрические явления (процессы), используя физические величины: электрический заряд, электрическое поле, напряжённость поля, потенциал, разность потенциалов; при описании правильно трактовать физический смысл используемых величин, их обозначения и единицы; указывать формулы, связывающие данную физическую величину с другими величинами;

анализировать физические процессы и явления, используя физические законы и принципы: закон всемирного тяготения, I, II и III законы Ньютона, закон сохранения механической энергии, закон сохранения импульса, принцип суперпозиции сил, принцип равноправия инерциальных систем отсчёта, молекулярно-кинетическую теорию строения вещества, газовые законы, связь средней кинетической энергии теплового движения молекул с абсолютной температурой, первый закон термодинамики, закон сохранения электрического заряда, закон Кулона, при этом различать словесную формулировку закона, его математическое выражение и условия (границы, области) применимости;

объяснять основные принципы действия машин, приборов и технических устройств; различать условия их безопасного использования в повседневной жизни;

выполнять эксперименты по исследованию физических явлений и процессов с использованием прямых и косвенных измерений, при этом формулировать проблему/задачу и гипотезу учебного эксперимента, собирать установку из предложенного оборудования, проводить опыт и формулировать выводы;

осуществлять прямые и косвенные измерения физических величин, при этом выбирать оптимальный способ измерения и использовать известные методы оценки погрешностей измерений;

исследовать зависимости между физическими величинами с использованием прямых измерений, при этом конструировать установку, фиксировать результаты полученной зависимости физических величин в виде таблиц и графиков, делать выводы по результатам исследования;

соблюдать правила безопасного труда при проведении исследований в рамках учебного эксперимента, учебно-исследовательской и проектной деятельности с использованием измерительных устройств и лабораторного оборудования;

решать расчётные задачи с явно заданной физической моделью, используя физические законы и принципы, на основе анализа условия задачи выбирать физическую модель, выделять физические величины и формулы, необходимые для её решения, проводить расчёты и оценивать реальность полученного значения физической величины;

решать качественные задачи: выстраивать логически непротиворечивую цепочку рассуждений с опорой на изученные законы, закономерности и физические явления;

использовать при решении учебных задач современные информационные технологии для поиска, структурирования, интерпретации и представления учебной и научно-популярной информации, полученной из различных источников, критически анализировать получаемую информацию;

приводить примеры вклада российских и зарубежных учёных-физиков в развитие науки, объяснение процессов окружающего мира, в развитие техники и технологий;

использовать теоретические знания по физике в повседневной жизни для обеспечения безопасности при обращении с приборами и техническими устройствами, для сохранения здоровья и соблюдения норм экологического поведения в окружающей среде;

работать в группе с выполнением различных социальных ролей, планировать работу группы, рационально распределять обязанности и планировать деятельность в нестандартных ситуациях, адекватно оценивать вклад каждого из участников группы в решение рассматриваемой проблемы.

К концу обучения **в 11 классе** предметные результаты на базовом уровне должны отражать сформированность у обучающихся умений:

демонстрировать на примерах роль и место физики в формировании современной научной картины мира, в развитии современной техники и технологий, в практической деятельности людей, целостность и единство физической картины мира;

учитывать границы применения изученных физических моделей: точечный электрический заряд, луч света, точечный источник света, ядерная модель атома, нуклонная модель атомного ядра при решении физических задач;

распознавать физические явления (процессы) и объяснять их на основе законов электродинамики и квантовой физики: электрическая проводимость, тепловое, световое, химическое, магнитное действия тока, взаимодействие магнитов, электромагнитная индукция, действие магнитного поля на проводник с током и движущийся заряд, электромагнитные колебания и волны, прямолинейное распространение света, отражение, преломление, интерференция, дифракция и поляризация света, дисперсия света, фотоэлектрический эффект (фотоэффект), световое давление, возникновение линейчатого спектра атома водорода, естественная и искусственная радиоактивность;

описывать изученные свойства вещества (электрические, магнитные, оптические, электрическую проводимость различных сред) и электромагнитные явления (процессы), используя физические величины: электрический заряд, сила тока, электрическое напряжение, электрическое сопротивление, разность потенциалов, электродвижущая сила, работа тока, индукция магнитного поля, сила Ампера, сила Лоренца, индуктивность катушки, энергия электрического и магнитного полей, период и частота колебаний в колебательном контуре, заряд и сила тока в процессе гармонических электромагнитных колебаний, фокусное расстояние и оптическая сила линзы, при описании правильно трактовать физический смысл используемых величин, их обозначения и единицы, указывать формулы, связывающие данную физическую величину с другими величинами;

описывать изученные квантовые явления и процессы, используя физические величины: скорость электромагнитных волн, длина волны и частота света, энергия и импульс фотона, период полураспада, энергия связи

атомных ядер, при описании правильно трактовать физический смысл используемых величин, их обозначения и единицы, указывать формулы, связывающие данную физическую величину с другими величинами, вычислять значение физической величины;

анализировать физические процессы и явления, используя физические законы и принципы: закон Ома, законы последовательного и параллельного соединения проводников, закон Джоуля–Ленца, закон электромагнитной индукции, закон прямолинейного распространения света, законы отражения света, законы преломления света, уравнение Эйнштейна для фотоэффекта, закон сохранения энергии, закон сохранения импульса, закон сохранения электрического заряда, закон сохранения массового числа, постулаты Бора, закон радиоактивного распада, при этом различать словесную формулировку закона, его математическое выражение и условия (границы, области) применимости;

определять направление вектора индукции магнитного поля проводника с током, силы Ампера и силы Лоренца;

строить и описывать изображение, создаваемое плоским зеркалом, тонкой линзой;

выполнять эксперименты по исследованию физических явлений и процессов с использованием прямых и косвенных измерений: при этом формулировать проблему/задачу и гипотезу учебного эксперимента, собирать установку из предложенного оборудования, проводить опыт и формулировать выводы;

осуществлять прямые и косвенные измерения физических величин, при этом выбирать оптимальный способ измерения и использовать известные методы оценки погрешностей измерений;

исследовать зависимости физических величин с использованием прямых измерений: при этом конструировать установку, фиксировать результаты полученной зависимости физических величин в виде таблиц и графиков, делать выводы по результатам исследования;

соблюдать правила безопасного труда при проведении исследований в рамках учебного эксперимента, учебно-исследовательской и проектной деятельности с использованием измерительных устройств и лабораторного оборудования;

решать расчётные задачи с явно заданной физической моделью, используя физические законы и принципы, на основе анализа условия задачи выбирать физическую модель, выделять физические величины и формулы, необходимые для её решения, проводить расчёты и оценивать реальность полученного значения физической величины;

решать качественные задачи: выстраивать логически непротиворечивую цепочку рассуждений с опорой на изученные законы, закономерности и физические явления;

использовать при решении учебных задач современные информационные технологии для поиска, структурирования, интерпретации и представления учебной и научно-популярной информации, полученной из различных источников, критически анализировать получаемую информацию;

объяснять принципы действия машин, приборов и технических устройств, различать условия их безопасного использования в повседневной жизни;

приводить примеры вклада российских и зарубежных учёных-физиков в развитие науки, в объяснение процессов окружающего мира, в развитие техники и технологий;

использовать теоретические знания по физике в повседневной жизни для обеспечения безопасности при обращении с приборами и техническими устройствами, для сохранения здоровья и соблюдения норм экологического поведения в окружающей среде;

работать в группе с выполнением различных социальных ролей, планировать работу группы, рационально распределять обязанности и планировать деятельность в нестандартных ситуациях, адекватно оценивать вклад каждого из участников группы в решение рассматриваемой проблемы.

ТЕМАТИЧЕСКОЕ ПЛАНИРОВАНИЕ 10 КЛАСС

№ п/п	Наименование разделов и тем программы	Количество часов			Электронные (цифровые) образовательные ресурсы
		Всего	Контрольные работы	Практические работы	
Раздел 1. ФИЗИКА И МЕТОДЫ НАУЧНОГО ПОЗНАНИЯ					
1.1	Физика и методы научного познания	2			Библиотека ЦОК https://m.edsoo.ru/7f41bf72
Итого по разделу		2			
Раздел 2. МЕХАНИКА					
2.1	Кинематика	5			Библиотека ЦОК https://m.edsoo.ru/7f41bf72
2.2	Динамика	7			Библиотека ЦОК https://m.edsoo.ru/7f41bf72
2.3	Законы сохранения в механике	6	1	1	Библиотека ЦОК https://m.edsoo.ru/7f41bf72
Итого по разделу		18			
Раздел 3. МОЛЕКУЛЯРНАЯ ФИЗИКА И ТЕРМОДИНАМИКА					
3.1	Основы молекулярно-кинетической теории	9		1	Библиотека ЦОК https://m.edsoo.ru/7f41bf72
3.2	Основы термодинамики	10	1		Библиотека ЦОК https://m.edsoo.ru/7f41bf72
3.3	Агрегатные состояния вещества. Фазовые переходы	5			Библиотека ЦОК https://m.edsoo.ru/7f41bf72

Итого по разделу		24			
Раздел 4. ЭЛЕКТРОДИНАМИКА					
4.1	Электростатика	10		1	Библиотека ЦОК https://m.edsoo.ru/7f41bf72
4.2	Постоянный электрический ток. Токи в различных средах	12	1	1	Библиотека ЦОК https://m.edsoo.ru/7f41bf72
Итого по разделу		22			
Резервное время		2	1		
ОБЩЕЕ КОЛИЧЕСТВО ЧАСОВ ПО ПРОГРАММЕ		68	4	4	

11 КЛАСС

№ п/п	Наименование разделов и тем программы	Количество часов			Электронные (цифровые) образовательные ресурсы
		Всего	Контрольные работы	Практические работы	
Раздел 1. ЭЛЕКТРОДИНАМИКА					
1.1	Магнитное поле. Электромагнитная индукция	11	1	3	Библиотека ЦОК https://m.edsoo.ru/7f41c97c
Итого по разделу		11			
Раздел 2. КОЛЕБАНИЯ И ВОЛНЫ					
2.1	Механические и электромагнитные колебания	9		1	Библиотека ЦОК https://m.edsoo.ru/7f41c97c
2.2	Механические и электромагнитные волны	5	1		Библиотека ЦОК https://m.edsoo.ru/7f41c97c
2.3	Оптика	10		3	Библиотека ЦОК https://m.edsoo.ru/7f41c97c
Итого по разделу		24			
Раздел 3. ОСНОВЫ СПЕЦИАЛЬНОЙ ТЕОРИИ ОТНОСИТЕЛЬНОСТИ					
3.1	Основы специальной теории относительности	4	1		Библиотека ЦОК https://m.edsoo.ru/7f41c97c
Итого по разделу		4			
Раздел 4. КВАНТОВАЯ ФИЗИКА					
4.1	Элементы квантовой оптики	6			Библиотека ЦОК https://m.edsoo.ru/7f41c97c

4.2	Строение атома	4			Библиотека ЦОК https://m.edsoo.ru/7f41c97c
4.3	Атомное ядро	5			Библиотека ЦОК https://m.edsoo.ru/7f41c97c
Итого по разделу		15			
Раздел 5. ЭЛЕМЕНТЫ АСТРОНОМИИ И АСТРОФИЗИКИ					
5.1	Элементы астрономии и астрофизики	7	1		Библиотека ЦОК https://m.edsoo.ru/7f41c97c
Итого по разделу		7			
Раздел 6. ОБОБЩАЮЩЕЕ ПОВТОРЕНИЕ					
6.1	Обобщающее повторение	4			Библиотека ЦОК https://m.edsoo.ru/7f41c97c
Итого по разделу		4			
Резервное время		3			
ОБЩЕЕ КОЛИЧЕСТВО ЧАСОВ ПО ПРОГРАММЕ		68	4	7	

ПОУРОЧНОЕ ПЛАНИРОВАНИЕ 10 КЛАСС

№ п/п	Тема урока	Количество часов			Дата изучения	Электронные цифровые образовательные ресурсы
		Всего	Контрольные работы	Практические работы		
1	Физика — наука о природе. Научные методы познания окружающего мира. Роль и место физики в формировании современной научной картины мира, в практической деятельности людей. Демонстрации: Аналоговые и цифровые измерительные приборы, компьютерные датчики.	1			2-7.09	Библиотека ЦОК https://m.edsoo.ru/ff0c32e2
2	Входная контрольная работа	1	1		2-7.09	Библиотека ЦОК https://m.edsoo.ru/ff0c33e6
3	Механическое движение. Относительность механического движения. Перемещение, скорость, ускорение. Демонстрации Модель системы отсчёта, иллюстрация кинематических характеристик движения.	1			9-14.09	Библиотека ЦОК https://m.edsoo.ru/ff0c3508
4	Равномерное прямолинейное движение	1			9-14.09	Библиотека ЦОК https://m.edsoo.ru/ff0c3620
5	Равноускоренное прямолинейное движение	1			16-21.09	Библиотека ЦОК https://m.edsoo.ru/ff0c372e

6	Свободное падение. Ускорение свободного падения. Демонстрация: Падение тел в воздухе и в разреженном пространстве. Измерение ускорения свободного падения.	1			16-21.09	Библиотека ЦОК https://m.edsoo.ru/ff0c39cc
7	Криволинейное движение. Движение материальной точки по окружности. Демонстрация: Наблюдение движения тела, брошенного под углом к горизонту и горизонтально. Направление скорости при движении по окружности.	1			23-28.09	Библиотека ЦОК https://m.edsoo.ru/ff0c3ada
8	Принцип относительности Галилея. Инерциальные системы отсчета. Первый закон Ньютона. Демонстрация: Явление инерции.	1			23-28.09	Библиотека ЦОК https://m.edsoo.ru/ff0c3be8
9	Масса тела. Сила. Принцип суперпозиции сил. Второй закон Ньютона для материальной точки. Демонстрации: Сравнение масс взаимодействующих тел. Второй закон Ньютона. Измерение сил. Сложение сил.	1			30.09-5.10	Библиотека ЦОК https://m.edsoo.ru/ff0c3be8
10	Третий закон Ньютона для материальных точек	1			30.09-5.10	Библиотека ЦОК https://m.edsoo.ru/ff0c3be8

11	Закон всемирного тяготения. Сила тяжести. Первая космическая скорость	1			7-12.10	Библиотека ЦОК https://m.edsoo.ru/ff0c3d00
12	Сила упругости. Закон Гука. Вес тела . Демонстрации: Зависимость силы упругости от деформации. Невесомость. Вес тела при ускоренном подъёме и падении.	1			7-12.10	Библиотека ЦОК https://m.edsoo.ru/ff0c3e18
13	Сила трения. Коэффициент трения. Сила сопротивления при движении тела в жидкости или газе. Демонстрация: Сравнение сил трения покоя, качения и скольжения.	1			14-19.10	Библиотека ЦОК https://m.edsoo.ru/ff0c3f76
14	Поступательное и вращательное движение абсолютно твёрдого тела. Момент силы. Плечо силы. Условия равновесия твёрдого тела. Демонстрация: Преобразование движений с использованием простых механизмов. Условия равновесия твёрдого тела. Виды равновесия.	1			14-19.10	Библиотека ЦОК https://m.edsoo.ru/ff0c41a6
15	Импульс материальной точки, системы материальных точек. Импульс силы. Закон сохранения импульса. Реактивное движение. Демонстрации: Закон сохранения импульса. Реактивное движение.	1			21-25.10	Библиотека ЦОК https://m.edsoo.ru/ff0c43d6

16	Работа и мощность силы. Кинетическая энергия материальной точки. Теорема об изменении кинетической энергии	1			21-25.10	Библиотека ЦОК https://m.edsoo.ru/ff0c4502
17	Потенциальная энергия. Потенциальная энергия упруго деформированной пружины. Потенциальная энергия тела вблизи поверхности Земли	1			5-9.11	Библиотека ЦОК https://m.edsoo.ru/ff0c461a
18	Потенциальные и непотенциальные силы. Связь работы непотенциальных сил с изменением механической энергии системы тел. Закон сохранения механической энергии. Демонстрация: Переход потенциальной энергии в кинетическую и обратно.	1			5-9.11	Библиотека ЦОК https://m.edsoo.ru/ff0c478c
19	Лабораторная работа «Исследование связи работы силы с изменением механической энергии тела на примере растяжения резинового жгута»	1		1	11-16.11	
20	Контрольная работа по теме «Кинематика. Динамика. Законы сохранения в механике»	1	1		11-16.11	Библиотека ЦОК https://m.edsoo.ru/ff0c4b74
21	Основные положения молекулярно-кинетической	1			18-23.11	Библиотека ЦОК https://m.edsoo.ru/ff0c4dc2

	<p>теории. Броуновское движение. Диффузия. Демонстрации: Опыты, доказывающие дискретное строение вещества, фотографии молекул органических соединений. Опыты по диффузии жидкостей и газов. Модель броуновского движения.</p>					
22	<p>Характер движения и взаимодействия частиц вещества. Модели строения газов, жидкостей и твёрдых тел Демонстрации: Модель опыта Штерна. Опыты, доказывающие существование межмолекулярного взаимодействия.</p>	1			18-23.11	
23	<p>Масса молекул. Количество вещества. Постоянная Авогадро</p>	1			25-30.11	
24	<p>Тепловое равновесие. Температура и её измерение. Шкала температур Цельсия</p>	1			25-30.11	
25	<p>Идеальный газ в МКТ. Основное уравнение МКТ. Демонстрация: Модель, иллюстрирующая природу давления газа на стенки сосуда</p>	1			2-7.12	Библиотека ЦОК https://m.edsoo.ru/ff0c4fde
26	<p>Абсолютная температура как мера средней кинетической энергии</p>	1			2-7.12	Библиотека ЦОК https://m.edsoo.ru/ff0c511e

	движения молекул. Уравнение Менделеева-Клапейрона					
27	Закон Дальтона. Газовые законы.	1			9-14.12	
28	Лабораторная работа «Исследование зависимости между параметрами состояния разреженного газа»	1		1	9-14.12	
29	Изопроцессы в идеальном газе и их графическое представление. Демонстрация: Опыты, иллюстрирующие уравнение состояния идеального газа, изопроцессы.	1			16-21.12	Библиотека ЦОК https://m.edsoo.ru/ff0c570e
30	Внутренняя энергия термодинамической системы и способы её изменения. Количество теплоты и работа. Внутренняя энергия одноатомного идеального газа	1			16-21.12	Библиотека ЦОК https://m.edsoo.ru/ff0c5952
31	Виды теплопередачи	1			23-28.12	Библиотека ЦОК https://m.edsoo.ru/ff0c5c36
32	Удельная теплоёмкость вещества. Количество теплоты при теплопередаче. Адиабатный процесс	1			23-28.12	Библиотека ЦОК https://m.edsoo.ru/ff0c5c36
33	Первый закон термодинамики и его применение к изопроцессам	1			9-11.01	Библиотека ЦОК https://m.edsoo.ru/ff0c5efc

34	Необратимость процессов в природе. Второй закон термодинамики	1			13-18.01	Библиотека ЦОК https://m.edsoo.ru/ff0c6230
35	Принцип действия и КПД тепловой машины	1			13-18.01	Библиотека ЦОК https://m.edsoo.ru/ff0c600a
36	Цикл Карно и его КПД	1			20-25.01	
37	Экологические проблемы теплоэнергетики	1			20-25.01	
38	Обобщающий урок «Молекулярная физика. Основы термодинамики»	1			27.01-1.02	Библиотека ЦОК https://m.edsoo.ru/ff0c6938
39	Контрольная работа по теме «Молекулярная физика. Основы термодинамики»	1	1		27.01-1.02	Библиотека ЦОК https://m.edsoo.ru/ff0c6a50
40	Парообразование и конденсация. Испарение и кипение	1			3-8.02	Библиотека ЦОК https://m.edsoo.ru/ff0c63b6
41	Абсолютная и относительная влажность воздуха. Насыщенный пар	1			3-8.02	Библиотека ЦОК https://m.edsoo.ru/ff0c64d8
42	Твёрдое тело. Кристаллические и аморфные тела. Анизотропия свойств кристаллов. Жидкие кристаллы. Современные материалы	1			10-15.02	Библиотека ЦОК https://m.edsoo.ru/ff0c65f0
43	Плавление и кристаллизация. Удельная теплота плавления. Сублимация	1			10-15.02	Библиотека ЦОК https://m.edsoo.ru/ff0c6708

44	Уравнение теплового баланса	1			17-22.02	Библиотека ЦОК https://m.edsoo.ru/ff0c6820
45	Электризация тел. Электрический заряд. Два вида электрических зарядов. Демонстрации: Устройство и принцип действия электрометра. Взаимодействие наэлектризованных тел. Электрическое поле заряженных тел.	1			17-22.02	Библиотека ЦОК https://m.edsoo.ru/ff0c6bcc
46	Проводники, диэлектрики и полупроводники. Закон сохранения электрического заряда. Демонстрации: Проводники в электростатическом поле. Электростатическая защита. Диэлектрики в электростатическом поле.	1			24.02-1.03	Библиотека ЦОК https://m.edsoo.ru/ff0c6bcc
47	Взаимодействие зарядов. Закон Кулона. Точечный электрический заряд	1			24.02-1.03	Библиотека ЦОК https://m.edsoo.ru/ff0c6ce4
48	Напряжённость электрического поля. Принцип суперпозиции электрических полей. Линии напряжённости	1			3-8.03	Библиотека ЦОК https://m.edsoo.ru/ff0c6df2

49	Работа сил электростатического поля. Потенциал. Разность потенциалов	1			3-8.03	Библиотека ЦОК https://m.edsoo.ru/ff0c6f00
50	Проводники и диэлектрики в электростатическом поле. Диэлектрическая проницаемость	1			10-15.03	Библиотека ЦОК https://m.edsoo.ru/ff0c7018
51	Емкость. Конденсатор. Демонстрация: Зависимость емкости плоского конденсатора от площади пластин, расстояния между ними и диэлектрической проницаемости. Энергия заряженного конденсатора	1			10-15.03	Библиотека ЦОК https://m.edsoo.ru/ff0c7126
52	Емкость плоского конденсатора. Энергия заряженного конденсатора	1			17-22.03	Библиотека ЦОК https://m.edsoo.ru/ff0c72c0
53	Лабораторная работа "Измерение емкости конденсатора"	1		1	17-22.03	
54	Принцип действия и применение конденсаторов, копировального аппарата, струйного принтера. Электростатическая защита. Заземление электроприборов	1			24- 25.03,4- 5.04	
55	Электрический ток, условия его существования. Постоянный ток. Сила тока. Напряжение. Сопротивление. Закон Ома для участка цепи. Демонстрации:	1			24- 25.03,4- 5.04	

	Измерение силы тока и напряжения. Зависимость сопротивления цилиндрических проводников от длины, площади поперечного сечения и материала.					
56	Последовательное, параллельное, смешанное соединение проводников. Лабораторная работа «Изучение смешанного соединения резисторов» . Демонстрации: Смешанное соединение проводников.	1		0.5	7-12.04	Библиотека ЦОК https://m.edsoo.ru/ff0c74f0
57	Работа и мощность электрического тока. Закон Джоуля-Ленца	1			7-12.04	Библиотека ЦОК https://m.edsoo.ru/ff0c7838
58	Закон Ома для полной (замкнутой) электрической цепи. Короткое замыкание. Лабораторная работа «Измерение ЭДС источника тока и его внутреннего сопротивления». Демонстрация: Прямое измерение электродвижущей силы. Короткое замыкание гальванического элемента и оценка внутреннего сопротивления	1		0.5	14-19.04	Библиотека ЦОК https://m.edsoo.ru/ff0c7ae0
59	Электронная проводимость твёрдых металлов. Зависимость сопротивления металлов от	1			14-19.04	

	температуры. Сверхпроводимость. Демонстрация: Зависимость сопротивления металлов от температуры.					
60	Электрический ток в вакууме. Свойства электронных пучков	1			21-26.04	
61	Полупроводники, их собственная и примесная проводимость. Свойства р—п-перехода. Полупроводниковые приборы. Демонстрация: Односторонняя проводимость диода.	1			21-26.04	Библиотека ЦОК https://m.edsoo.ru/ff0c84ae
62	Электрический ток в растворах и расплавах электролитов. Электролитическая диссоциация. Электролиз. Демонстрация: Проводимость электролитов.	1			28.04-3.05	Библиотека ЦОК https://m.edsoo.ru/ff0c82ba
63	Электрический ток в газах. Самостоятельный и несамостоятельный разряд. Молния. Плазма. Демонстрация: Искровой разряд и проводимость воздуха.	1			28.04-3.05	Библиотека ЦОК https://m.edsoo.ru/ff0c84ae
64	Электрические приборы и устройства и их практическое применение. Правила техники безопасности	1			5-10.05	Библиотека ЦОК https://m.edsoo.ru/ff0c86fc
65	Обобщающий урок «Электродинамика»	1			5-10.05	Библиотека ЦОК https://m.edsoo.ru/ff0c88be

66	Контрольная работа по теме «Электростатика. Постоянный электрический ток. Токи в различных средах»	1	1		12-17.05	Библиотека ЦОК https://m.edsoo.ru/ff0c8a8a
67	Промежуточная аттестация (комплексная контрольная работа)	1			12-17.05	Библиотека ЦОК https://m.edsoo.ru/ff0c8c56
68	Обобщающий урок по темам 10 класса	1			19-24.05	Библиотека ЦОК https://m.edsoo.ru/ff0c8f6c
ОБЩЕЕ КОЛИЧЕСТВО ЧАСОВ ПО ПРОГРАММЕ		68	4	4		

11 КЛАСС

№ п/п	Тема урока	Количество часов			Дата изучения	Электронные цифровые образовательные ресурсы
		Всего	Контрольные работы	Практические работы		
1	Постоянные магниты и их взаимодействие. Магнитное поле. Вектор магнитной индукции. Линии магнитной индукции. Демонстрации: Линии индукции магнитного поля.	1				Библиотека ЦОК https://m.edsoo.ru/ff0c9778
2	Магнитное поле проводника с током. Опыт Эрстеда. Взаимодействие проводников с током. Лабораторная работа «Изучение магнитного поля катушки с током» Демонстрации: Опыт Эрстеда	1		1		Библиотека ЦОК https://m.edsoo.ru/ff0c98fe
3	Входная контрольная работа	1	1			Библиотека ЦОК https://m.edsoo.ru/ff0c98fe
4	Действие магнитного поля на проводник с током. Сила Ампера. Лабораторная работа «Исследование действия постоянного магнита на рамку с током». Демонстрации	1		1		Библиотека ЦОК https://m.edsoo.ru/ff0c9ac0

	Взаимодействие двух проводников с током. Сила Ампера					
5	Действие магнитного поля на движущуюся заряженную частицу. Сила Лоренца. Работа силы Лоренца. Демонстрации: Отклонение электронного пучка магнитным полем. Действие силы Лоренца на ионы электролита.	1				Библиотека ЦОК https://m.edsoo.ru/ff0c9df4
6	Электромагнитная индукция. Поток вектора магнитной индукции. ЭДС индукции. Закон электромагнитной индукции Фарадея. Демонстрации: Явление электромагнитной индукции. Правило Ленца. Зависимость электродвижущей силы индукции от скорости изменения магнитного потока. Явление самоиндукции.	1				
7	Лабораторная работа «Исследование явления электромагнитной индукции»	1		1		Библиотека ЦОК https://m.edsoo.ru/ff0ca150
8	Индуктивность. Явление самоиндукции. ЭДС	1				Библиотека ЦОК https://m.edsoo.ru/ff0ca600

	самоиндукции. Энергия магнитного поля катушки с током. Электромагнитное поле. Демонстрации: Явление самоиндукции.					
9	Технические устройства и их применение: постоянные магниты, электромагниты, электродвигатель, ускорители элементарных частиц, индукционная печь	1				
10	Обобщающий урок «Магнитное поле. Электромагнитная индукция»	1				Библиотека ЦОК https://m.edsoo.ru/ff0cab82
11	Контрольная работа по теме «Магнитное поле. Электромагнитная индукция»	1	1			Библиотека ЦОК https://m.edsoo.ru/ff0cad58
12	Свободные механические колебания. Гармонические колебания. Уравнение гармонических колебаний. Превращение энергии. Демонстрации: Исследование параметров колебательной системы (пружинный или математический маятник).	1				Библиотека ЦОК https://m.edsoo.ru/ff0caf06
13	Лабораторная работа «Исследование зависимости	1		1		

	периода малых колебаний груза на нити от длины нити и массы груза»					
14	Колебательный контур. Свободные электромагнитные колебания в идеальном колебательном контуре. Аналогия между механическими и электромагнитными колебаниями. Демонстрации Свободные электромагнитные колебания. Осциллограммы (зависимости силы тока и напряжения от времени) для электромагнитных колебаний.	1				Библиотека ЦОК https://m.edsoo.ru/ff0cb820
15	Формула Томсона. Закон сохранения энергии в идеальном колебательном контуре	1				Библиотека ЦОК https://m.edsoo.ru/ff0cb9c4
16	Представление о затухающих колебаниях. Вынужденные механические колебания. Резонанс. Вынужденные электромагнитные колебания. Демонстрации Наблюдение затухающих колебаний. Исследование свойств вынужденных колебаний.	1				Библиотека ЦОК https://m.edsoo.ru/ff0cbb86

	Наблюдение резонанса. Резонанс при последовательном соединении резистора, катушки индуктивности и конденсатора.					
17	Переменный ток. Синусоидальный переменный ток. Мощность переменного тока. Амплитудное и действующее значение силы тока и напряжения. Демонстрации: Осциллограммы (зависимости силы тока и напряжения от времени) для электромагнитных колебаний.	1				Библиотека ЦОК https://m.edsoo.ru/ff0cbd34
18	Трансформатор. Производство, передача и потребление электрической энергии.	1				
19	Устройство и практическое применение электрического звонка, генератора переменного тока, линий электропередач. Демонстрации: Модель линии электропередачи.	1				Библиотека ЦОК https://m.edsoo.ru/ff0cc324
20	Экологические риски при производстве электроэнергии. Культура использования электроэнергии в повседневной жизни	1				

21	<p>Механические волны, условия распространения. Период. Скорость распространения и длина волны. Поперечные и продольные волны.</p> <p>Демонстрации: Образование и распространение поперечных и продольных волн. Наблюдение интерференции и дифракции механических волн.</p>	1				<p>Библиотека ЦОК https://m.edsoo.ru/ff0cca54</p>
22	<p>Звук. Скорость звука. Громкость звука. Высота тона. Тембр звука.</p> <p>Демонстрации: Колеблющееся тело как источник звука. Звуковой резонанс.</p> <p>Наблюдение связи громкости звука и высоты тона с амплитудой и частотой колебаний.</p>	1				<p>Библиотека ЦОК https://m.edsoo.ru/ff0ccc0c</p>
23	<p>Электромагнитные волны, их свойства и скорость. Шкала электромагнитных волн.</p> <p>Демонстрации: Исследование свойств электромагнитных волн: отражение, преломление, поляризация, дифракция, интерференция.</p>	1				<p>Библиотека ЦОК https://m.edsoo.ru/ff0ccfe0</p>
24	<p>Принципы радиосвязи и телевидения. Развитие средств связи. Радиолокация</p>	1				

25	Контрольная работа «Колебания и волны»	1	1			Библиотека ЦОК https://m.edsoo.ru/ff0cc6f8
26	Прямолинейное распространение света в однородной среде. Точечный источник света. Луч света. Демонстрации Прямолинейное распространение, отражение и преломление света.	1				Библиотека ЦОК https://m.edsoo.ru/ff0cd350
27	Отражение света. Законы отражения света. Построение изображений в плоском зеркале.	1				Библиотека ЦОК https://m.edsoo.ru/ff0cd4e0
28	Преломление света. Полное внутреннее отражение. Предельный угол полного внутреннего отражения. Демонстрации Полное внутреннее отражение. Модель световода.	1				Библиотека ЦОК https://m.edsoo.ru/ff0cd7f6
29	Лабораторная работа «Измерение показателя преломления стекла»	1		1		Библиотека ЦОК https://m.edsoo.ru/ff0cd67a
30	Линзы. Построение изображений в линзе. Формула тонкой линзы. Увеличение линзы. Демонстрации: Исследование свойств изображений в линзах.	1				Библиотека ЦОК https://m.edsoo.ru/ff0cdd1e
31	Лабораторная работа «Исследование свойств изображений в линзах»	1		1		

32	<p>Дисперсия света. Сложный состав белого света. Цвет. Лабораторная работа «Наблюдение дисперсии света».</p> <p>Демонстрации: Наблюдение дисперсии света.</p> <p>Получение спектра с помощью призмы.</p>	1		1		
33	<p>Интерференция света.</p> <p>Демонстрации: Наблюдение интерференции света.</p>	1				<p>Библиотека ЦОК</p> <p>https://m.edsoo.ru/ff0ced22</p>
34	<p>Дифракция света. Дифракционная решётка. Демонстрации:</p> <p>Наблюдение дифракции света.</p> <p>Получение спектра с помощью дифракционной решётки.</p> <p>Наблюдение поляризации света</p>	1				<p>Библиотека ЦОК</p> <p>https://m.edsoo.ru/ff0cf02e</p>
35	<p>Дифракция света. Дифракционная решётка</p>	1				
36	<p>Поперечность световых волн.</p> <p>Поляризация света.</p> <p>Демонстрации: Наблюдение поляризации света</p>	1				<p>Библиотека ЦОК</p> <p>https://m.edsoo.ru/ff0cf862</p>
37	<p>Оптические приборы и устройства и условия их безопасного применения. Демонстрации:</p> <p>Оптические приборы.</p> <p>Модели микроскопа, телескопа.</p>	1				<p>Библиотека ЦОК</p> <p>https://m.edsoo.ru/ff0cfa42</p>

38	Границы применимости классической механики. Постулаты специальной теории относительности	1				Библиотека ЦОК https://m.edsoo.ru/ff0cfc68
39	Относительность одновременности. Замедление времени и сокращение длины	1				Библиотека ЦОК https://m.edsoo.ru/ff0cf6f0
40	Энергия и импульс релятивистской частицы. Связь массы с энергией и импульсом. Энергия покоя	1				Библиотека ЦОК https://m.edsoo.ru/ff0cfe16
41	Оптика. Основы специальной теории относительности	1				Библиотека ЦОК https://m.edsoo.ru/ff0cfc4
42	Контрольная работа «Оптика. Основы специальной теории относительности»	1	1			Библиотека ЦОК https://m.edsoo.ru/ff0d015e
43	Фотоны. Формула Планка. Энергия и импульс фотона.	1				Библиотека ЦОК https://m.edsoo.ru/ff0d04a6
44	Открытие и исследование фотоэффекта. опыты А. Г. Столетова. Демонстрации: Фотоэффект на установке с цинковой пластиной.	1				
45	Законы фотоэффекта. Уравнение Эйнштейна для фотоэффекта. «Красная граница» фотоэффекта. Демонстрации Исследование законов внешнего фотоэффекта.	1				Библиотека ЦОК https://m.edsoo.ru/ff0d0302

46	Законы фотоэффекта. Уравнение Эйнштейна для фотоэффекта. «Красная граница» фотоэффекта	1				Библиотека ЦОК https://m.edsoo.ru/ff0d091a
47	Давление света. Опыты П. Н. Лебедева. Химическое действие света	1				Библиотека ЦОК https://m.edsoo.ru/ff0d0afa
48	Технические устройства и практическое применение: фотоэлемент, фотодатчик, солнечная батарея, светодиод. Демонстрации: Светодиод. Солнечная батарея.	1				Библиотека ЦОК https://m.edsoo.ru/ff0d0afa
49	Решение задач по теме «Элементы квантовой оптики»	1				Библиотека ЦОК https://m.edsoo.ru/ff0d0ca8
50	Модель атома Томсона. Опыты Резерфорда по рассеянию α -частиц. Планетарная модель атома. Демонстрации: Модель опыта Резерфорда.	1				Библиотека ЦОК https://m.edsoo.ru/ff0d0fd2
51	Постулаты Бора	1				
52	Излучение и поглощение фотонов при переходе атома с одного уровня энергии на другой. Виды спектров.	1				Библиотека ЦОК https://m.edsoo.ru/ff0d1162
53	Волновые свойства частиц. Волны де Бройля. Корпускулярно-волновой дуализм. Спонтанное и	1				Библиотека ЦОК https://m.edsoo.ru/ff0d1356

	<p>вынужденное излучение. Демонстрации: Определение длины волны лазера. Наблюдение линейчатых спектров излучения. Лазер.</p>					
54	<p>Открытие радиоактивности. Опыты Резерфорда по определению состава радиоактивного излучения</p>	1				<p>Библиотека ЦОК https://m.edsoo.ru/ff0d0e38</p>
55	<p>Свойства альфа-, бета-, гамма-излучения. Влияние радиоактивности на живые организмы. Демонстрации: Счётчик ионизирующих частиц</p>	1				
56	<p>Открытие протона и нейтрона. Изотопы. Альфа-распад. Электронный и позитронный бета-распад. Гамма-излучение</p>	1				
57	<p>Энергия связи нуклонов в ядре. Ядерные реакции. Ядерный реактор. Проблемы, перспективы, экологические аспекты ядерной энергетики</p>	1				
58	<p>Элементарные частицы. Открытие позитрона. Методы наблюдения и</p>	1				

	регистрации элементарных частиц. Круглый стол «Фундаментальные взаимодействия. Единство физической картины мира»					
59	Этапы развития астрономии. Прикладное и мировоззренческое значение астрономии. Вид звёздного неба. Созвездия, яркие звёзды, планеты, их видимое движение. Солнечная система Солнце. Солнечная активность. Источник энергии Солнца и звёзд	1				
60	Звёзды, их основные характеристики. Звёзды главной последовательности. Внутреннее строение звёзд. Современные представления о происхождении и эволюции Солнца и звёзд	1				
61	Млечный Путь — наша Галактика. Положение и движение Солнца в Галактике. Галактики. Чёрные дыры в ядрах галактик	1				
62	Вселенная. Разбегание галактик. Теория Большого взрыва. Реликтовое излучение. Метагалактика	1				

63	Нерешенные проблемы астрономии	1				
64	Обобщающий урок. Квантовая физика. Элементы астрономии и астрофизики	1				
65	Контрольная работа «Элементы астрономии и астрофизики»	1	1			
66	Обобщающий урок. Роль физики и астрономии в экономической, технологической, социальной и этической сферах деятельности человека	1				
67	Обобщающий урок. Место физической картины мира в общем ряду современных естественно-научных представлений о природе	1				
68	Промежуточная аттестация (комплексная контрольная работа)	1				Библиотека ЦОК https://m.edsoo.ru/ff0d1784
ОБЩЕЕ КОЛИЧЕСТВО ЧАСОВ ПО ПРОГРАММЕ			4	7		

**УЧЕБНО-МЕТОДИЧЕСКОЕ ОБЕСПЕЧЕНИЕ
ОБРАЗОВАТЕЛЬНОГО ПРОЦЕССА
ОБЯЗАТЕЛЬНЫЕ УЧЕБНЫЕ МАТЕРИАЛЫ ДЛЯ УЧЕН**

Физика, 10 класс/ Г.Я. Мякишев, Б.Б. Буховцев, Н.Н. Сотский , «Издательство
Просвещение», 2014г.

МЕТОДИЧЕСКИЕ МАТЕРИАЛЫ ДЛЯ УЧИТЕЛЯ

Физика, 10 класс/ Г.Я. Мякишев, Б.Б. Буховцев, Н.Н. Сотский , «Издательство
Просвещение», 2014г.

**ЦИФРОВЫЕ ОБРАЗОВАТЕЛЬНЫЕ РЕСУРСЫ И РЕСУРСЫ СЕТИ
ИНТЕРНЕТ**

<http://school-collection.edu.ru>

<http://class-fizika.ru/>

<https://resh.edu.ru/>

Приложение 1

Система оценивания

Оценка письменных самостоятельных и контрольных работ

Оценка «5» ставится за работу, выполненную без ошибок и недочетов или имеющую не более одного недочета.

Оценка «4» ставится за работу, выполненную полностью, но при наличии в ней:

- а) не более одной негрубой ошибки и одного недочета,
- б) или не более двух недочетов.

Оценка «3» ставится в том случае, если ученик правильно выполнил не менее половины работы или допустил:

- а) не более двух грубых ошибок,
- б) или не более одной грубой ошибки и одного недочета,
- в) или не более двух-трех негрубых ошибок,
- г) или одной негрубой ошибки и трех недочетов,
- д) или при отсутствии ошибок, но при наличии 4-5 недочетов.

Оценка «2» ставится, когда число ошибок и недочетов превосходит норму, при которой может быть выставлена оценка «3», или если правильно выполнено менее половины работы.

Оценка устных ответов

Оценка «5» ставится в том случае, если учащийся:

- а) обнаруживает полное понимание физической сущности рассматриваемых явлений и закономерностей, знание законов и теорий, умеет подтвердить их конкретными примерами, применить в новой ситуации и при выполнении практических заданий;
- б) дает точное определение и истолкование основных понятий, законов, теорий, а также правильное определение физических величин, их единиц и способов измерения;
- в) технически грамотно выполняет физические опыты, чертежи, схемы, графики, сопутствующие ответу, правильно записывает формулы, пользуясь принятой системой условных обозначений;
- г) при ответе не повторяет дословно текст учебника, а умеет отобрать главное, обнаруживает самостоятельность и аргументированность суждений, умеет установить связь между изучаемым и ранее изученным материалом по курсу физики, а также с материалом, усвоенным при изучении других смежных предметов;
- д) умеет подкрепить ответ несложными демонстрационными опытами;
- е) умеет делать анализ, обобщения и собственные выводы по данному вопросу;
 - ж) умеет самостоятельно и рационально работать с учебником, дополнительной литературой и справочниками.

Оценка «4» ставится в том случае, если ответ удовлетворяет названным выше требованиям, но учащийся:

- а) допускает одну негрубую ошибку или не более двух недочетов и может их исправить самостоятельно, или при небольшой помощи учителя;
- б) не обладает достаточными навыками работы со справочной литературой (например, ученик умеет все найти, правильно ориентируется в справочниках, но работает медленно).

Оценка «3» ставится в том случае, если учащийся правильно понимает физическую сущность рассматриваемых явлений и закономерностей, но при ответе:

- а) обнаруживает отдельные пробелы в усвоении существенных вопросов курса физики, не препятствующие дальнейшему усвоению программного материала;
- б) испытывает затруднения в применении знаний, необходимых для решения задач различных типов, при объяснении конкретных физических явлений на основе теории и законов, или в подтверждении конкретных примеров практического применения теории,
- в) отвечает неполно на вопросы учителя (упуская и основное), или воспроизводит содержание текста учебника, но недостаточно понимает отдельные положения, имеющие важное значение в этом тексте,
- г) обнаруживает недостаточное понимание отдельных положений при воспроизведении текста учебника, или отвечает неполно на вопросы учителя, допуская одну-две грубые ошибки.

Оценка «2» ставится в том случае, если ученик:

- а) не знает и не понимает значительную или основную часть программного материала в пределах поставленных вопросов,
- б) или имеет слабо сформулированные и неполные знания и не умеет применять их к решению конкретных вопросов и задач по образцу и к проведению опытов,
- в) или при ответе допускает более двух грубых ошибок, которые не может исправить даже при помощи учителя.

Оценка лабораторных и практических работ

Оценка «5» ставится в том случае, если учащийся:

- а) выполнил работу в полном объеме с соблюдением необходимой последовательности проведения опытов и измерений;
- б) самостоятельно и рационально выбрал и подготовил для опыта все необходимое оборудование, все опыты провел в условиях и режимах, обеспечивающих получение результатов и выводов с наибольшей точностью;
- в) в представленном отчете правильно и аккуратно выполнил все записи, таблицы, рисунки, чертежи, графики, вычисления и сделал выводы;
- г) правильно выполнил анализ погрешностей;
- д) соблюдал требования безопасности труда.

Оценка «4» ставится в том случае, если выполнены требования к оценке 5, но:

- а) опыт проводился в условиях, не обеспечивающих достаточной точности измерений;
- б) или было допущено два-три недочета, или не более одной негрубой ошибки и одного недочета.

Оценка «3» ставится, если работа выполнена не полностью, но объем выполненной части таков, что можно сделать выводы, или если в ходе проведения опыта и измерений были допущены следующие ошибки:

- а) опыт проводился в нерациональных условиях, что привело к получению результатов с большей погрешностью,
- б) или в отчете были допущены в общей сложности не более двух ошибок (в записях единиц, измерениях, в вычислениях, графиках, таблицах, схемах, анализе пог-

решностей и т.д.), не принципиального для данной работы характера, не повлиявших на результат выполнения,

в) или не выполнен совсем или выполнен неверно анализ погрешностей,

г) или работа выполнена не полностью, однако объем выполненной части таков, что позволяет получить правильные результаты и выводы по основным, принципиально важным задачам работы.

Оценка «2» ставится в том случае, если:

а) работа выполнена не полностью, и объем выполненной части работы не позволяет сделать правильные выводы,

б) или опыты, измерения, вычисления, наблюдения производились неправильно,

в) или в ходе работы и в отчете обнаружилось в совокупности все недостатки, отмеченные в требованиях к оценке «3».

Контрольно-измерительные материалы

10 класс

Входная контрольная работа

Вариант 1.

1. Катер плывёт против течения реки. Какова скорость катера относительно берега, если скорость катера относительно воды 4 м/с, а скорость течения реки 3 м/с?
А. 7 м/с Б. 5 м/с В. 1 м/с
2. После старта гоночный автомобиль достиг скорости 360 км/ч за 25 секунд. Какое расстояние он прошёл за это время?
А. 1500 м Б. 500 м В. 1250 м
3. Сила 40 Н сообщает телу ускорение $0,5 \text{ м/с}^2$. Какая сила сообщит этому телу ускорение 1 м/с^2 ?
А. 20 Н Б. 80 Н В. 60 Н
4. Тело брошено вертикально вверх со скоростью 20 м/с. На какой высоте скорость тела станет равной нулю?
А. 20 м Б. 40 м В. 60 м
5. Автомобиль движется на повороте по круговой траектории радиусом 40 м с постоянной по модулю скоростью 10 м/с. Чему равно центростремительное ускорение автомобиля?
А. $2,5 \text{ м/с}^2$ Б. 5 м/с^2 В. 10 м/с^2
6. Пуля массой 10 г пробивает стену. Скорость пули при этом уменьшилась от 800 до 400 м/с. Найти изменение импульса пули.
А. 4 кг*м/с Б. 40 кг*м/с В. 2 кг*м/с
7. По графику зависимости координаты маятника от времени определите период колебания маятника.

А. 2 с Б. 4 с В. 8 с
8. Рассчитайте глубину моря, если промежуток времени между отправлением и приёмом сигнала эхолота 2 секунды. Скорость звука в воде 1500 м/с.
А. 3 км Б. 1,5 км В. 2 км
9. С какой силой действует магнитное поле индукцией 10 мТл на проводник, в котором сила тока 50 А, если длина активной части проводника 10 см? Линии магнитной индукции поля и направление тока взаимно перпендикулярны.
А. 20 мН Б. 40 мН В. 50 мН
10. Рассчитайте энергию связи ядра изотопа бора B_5^{10} . Масса протона 1,0073 а. е. м., масса нейтрона 1,0087 а. е. м. Масса изотопа бора 10,01294 а. е. м.

Ответ: _____

Вариант 2.

1. Эскалатор метро движется вниз со скоростью 0,7 м/с. Какова скорость пассажира относительно земли, если он идёт вверх со скоростью 0,7 м/с относительно эскалатора?
А. 0 м/с Б. 1,4 м/с В. 1 м/с

2. С каким ускорением должен двигаться локомотив, чтобы на пути 250 м увеличить скорость от 36 до 54 км/ч?
 А. 5 м/с^2 Б. $0,25 \text{ м/с}^2$ В. $0,5 \text{ м/с}^2$
3. Тело массой 1 кг под действием некоторой силы приобретает ускорение $0,2 \text{ м/с}^2$. Какое ускорение приобретает тело массой 5 кг под действием той же силы?
 А. $0,04 \text{ м/с}^2$ Б. 4 м/с^2 В. 1 м/с^2
4. Стрела выпущена из лука вертикально вверх со скоростью 10 м/с. На какую максимальную высоту она поднимется?
 А. 5 м Б. 10 м В. 3 м
5. Трамвайный вагон движется по закруглению радиусом 50 м. Определите скорость трамвая, если центростремительное ускорение равно $0,5 \text{ м/с}^2$.
 А. 10 м/с Б. 25 м/с В. 5 м/с
6. Мяч массой 300 г движется с постоянной скоростью 2 м/с и ударяется о стенку, после чего движется обратно с такой же по модулю скоростью. Определите изменение импульса мяча.
 А. $1,2 \text{ кг} \cdot \text{м/с}$ Б. $2 \text{ кг} \cdot \text{м/с}$ В. $4 \text{ кг} \cdot \text{м/с}$
7. По графику зависимости координаты математического маятника от времени определите период колебаний математического маятника.
 А. 3с Б. 6 с В. 4 с
8. Через какое время человек услышит эхо, если расстояние до преграды, отражающей звук, 68 м? Скорость звука в воздухе 340 м/с.
 А. 0,4 с Б. 0,2 с В. 0,3 с
9. Какова индукция магнитного поля, в котором на проводник с длиной активной части 5 см действует сила 50 мН? Сила тока в проводнике 25 А. Проводник расположен перпендикулярно индукции магнитного поля.
 А. 40 мТл Б. 80 мТл В. 60 мТл
10. Рассчитайте энергию связи ядра изотопа углерода C_6^{12} . Масса протона 1,0073 а. е. м, масса нейтрона 1,0087 а. е. м. Масса изотопа углерода 12,00 а. е. м.
 Ответ: _____

Контрольная работа «Кинематика. Динамика. Законы сохранения в механике»

Вариант 1

1. Лыжник спускается с горы с начальной скоростью 6 м/с и ускорением $0,5 \text{ м/с}^2$. Какова длина горы, если спуск с неё продолжался 12 с?
2. Два корабля массой 500 000 т каждый стоят на рейде на расстоянии 1 км друг от друга. Какова сила притяжения между ними?
3. Пуля массой 10 г летит со скоростью 600 м/с, попадает в подвешенный на верёвке деревянный брусок массой 10 кг и застревает в нём.
 Найти А. Импульс пули и кинетическую энергию пули.

В. Найти скорость, полученную бруском.

С. На какую высоту поднимется брусок, после попадания в него пули.

Вариант 2

1. При какой скорости самолёт может приземлиться на посадочной полосе аэродрома длиной 800м при торможении с ускорением 5 м/с^2 ?
2. Масса Земли $6,0 \cdot 10^{24}\text{ кг}$, масса Луны $7,3 \cdot 10^{22}\text{ кг}$, расстояние между их центрами 384000км. Определить силу тяготения между Землей и Луной.
3. Пловец массой 60кг, спрыгнув с пятиметровой вышки, погрузился в воду на глубину 2 м.

Найти:

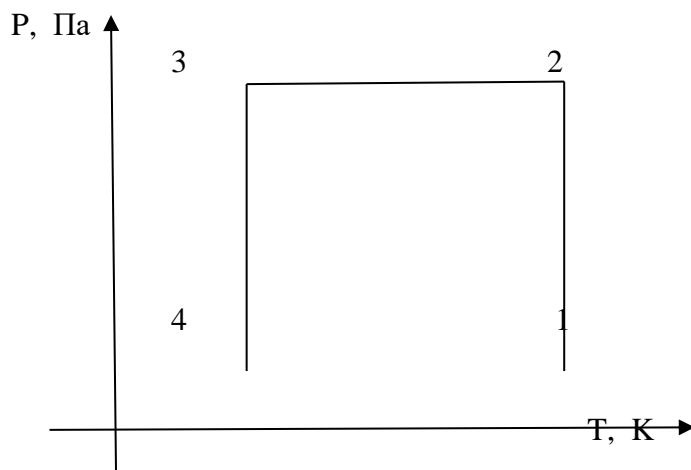
- A. Полную механическую энергию пловца на высоте 5 м и 3 м над уровнем воды.
- B. Скорость пловца перед погружением в воду и время движения в воде.
- C. Работу сил сопротивления в воде.

Контрольная работа «Молекулярная физика Основы термодинамики»

1 вариант

1. В стальном баллоне находится гелий массой 0,5 кг при температуре 10°C . Как изменится внутренняя энергия гелия, если его температура повысилась до 30°C ?
2. В ведро налито 5 л воды, температура которой 9°C . Сколько литров кипятка нужно долить в ведро, чтобы температура воды стала 30°C ?
3. В баллоне ёмкостью 25,6 л находится 1,04 кг азота при давлении 3,5 МПа. Определить температуру газа.
4. Газ находится в баллоне при температуре 288°K и давлении 1,8 МПа. При какой температуре давление газа станет равным 1,55 МПа? Объём баллона считать неизменным.

5. Представить данный процесс в координатах $V(T)$ и $P(V)$



2 вариант

1. В стальном баллоне находится кислород массой 300 г при температуре 15°C . Как изменится внутренняя энергия кислорода, если его температура повысилась до 27°C ?
2. В сосуде вместимостью 500 см^3 содержится 0,89 г водорода при температуре 17°C . Определить давление газа.
3. Какое количество теплоты следует сообщить 5 кг меди, взятой при температуре 13°C , чтобы нагреть её до плавления и расплавить?
4. 10 г кислорода находится под давлением 0,303 МПа при температуре 10°C . После нагревания при постоянном давлении кислород занял объём 10 л. Найти начальный объём и конечную температуру газа.
5. Представить данный процесс в координатах $P(T)$ и $P(V)$

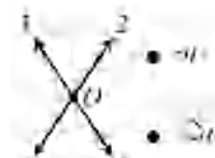
Контрольная работа «Электростатика. Постоянный электрический ток. Токи в различных средах»

Вариант 1

А 1 Расстояние между двумя точечными электрическими зарядами увеличили в 2 раза, и один из зарядов уменьшили в 2 раза. Сила взаимодействия между зарядами

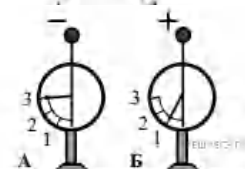
- 1) уменьшилась в 2 раза
- 2) уменьшилась в 4 раза
- 3) уменьшилась в 8 раз
- 4) не изменилась

А 2 По какой из стрелок 1–4 направлен вектор напряжённости электрического поля, созданного двумя разноимёнными неподвижными точечными зарядами в точке O (см. рисунок, $q_1 < 0$)? Точка O равноудалена от зарядов.



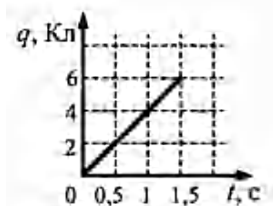
А 3 На рисунке изображены два одинаковых электрометра, шары которых имеют заряды противоположных знаков. Если их шары соединить проволокой, то показания обоих электрометров

- 1) не изменятся
- 2) станут равными 1
- 3) станут равными 2
- 4) станут равными 0



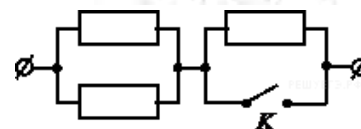
А 4 По проводнику течёт постоянный электрический ток. Величина заряда, прошедшего через проводник, возрастает с течением времени согласно графику. Сила тока в проводнике равна

- 1) 1 А
- 2) 1,5 А
- 3) 4 А
- 4) 6 А



А 5 На участке цепи, изображенном на рисунке, сопротивление каждого из резисторов равно R . Полное сопротивление участка при замкнутом ключе K равно

- 1) $0,5R$
- 2) R
- 3) $2R$
- 4) $3R$



А 6 Как изменится мощность тепловыделения на резисторе, если напряжение на нем уменьшить в 3 раза?

- 1) уменьшится в 3 раза
- 2) уменьшится в 9 раз
- 3) не изменится
- 4) увеличится в 9 раз

А 7 Идеальный амперметр и три резистора сопротивлением $R = 2 \text{ Ом}$, $2R$ и $3R$ включены последовательно в электрическую цепь, содержащую источник с ЭДС, равной 5 В , и внутренним сопротивлением $r = 8 \text{ Ом}$. Показания амперметра равны

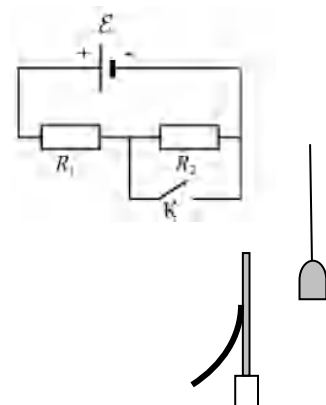
- 1) 100 А 2) 4 А 3) $\approx 0,56 \text{ А}$ 4) $0,25 \text{ А}$

В 1 Два резистора с сопротивлениями \blacksquare и \blacksquare соединили последовательно и подключили к клеммам батарейки для карманного фонаря. Напряжение на клеммах батарейки равно U . Установите соответствие между физическими величинами и формулами, по которым их можно рассчитать.

- А. сила тока через батарейку;
 В. напряжение на резисторе с сопротивлением \blacksquare .

- 1) ; 2) ; 3) ; 4) .

В 2 На рисунке показана цепь постоянного тока, содержащая источник тока с ЭДС \mathcal{E} и два резистора: \blacksquare и \blacksquare . Если ключ K замкнуть, то как изменятся следующие три величины:



- А) сила тока через резистор \blacksquare ;
 Б) напряжение на резисторе \blacksquare ;
 В) суммарная тепловая мощность, выделяющаяся на внешнем участке цепи?
 Внутренним сопротивлением источника тока пренебречь.

- 1) увеличится 2) уменьшится 3) не изменится

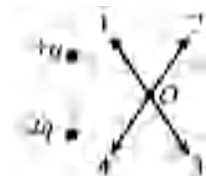
С 1 Около небольшой металлической пластины, укрепленной на изолирующей подставке, подвесили на шелковой нити лёгкую металлическую незаряженную гильзу. На пластину подали электрический заряд, присоединив к клемме высоковольтного выпрямителя. Опишите и объясните поведение гильзы.

Вариант 2

А 1 Расстояние между двумя точечными электрическими зарядами увеличили в 2 раза, и один из зарядов увеличили в 2 раза. Силы взаимодействия между зарядами

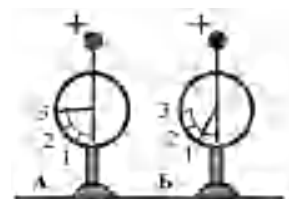
- 1) уменьшились в 2 раза 2) уменьшились в 4 раза
 3) уменьшились в 8 раз 4) не изменились

А 2 По какой из стрелок 1–4 направлен вектор напряжённости, электрического поля, созданного двумя разноимёнными неподвижными точечными зарядами в точке O (см. рисунок, $q > 0$, точка O равноудалена от зарядов)?



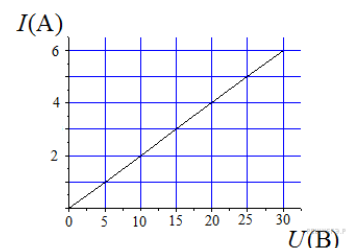
А 3 На рисунке изображены два одинаковых электрометра: А и Б, шары которых заряжены положительно. Какими станут показания электрометров, если их шары соединить проволокой?

- 1) показание электрометра А станет равным 1, показание электрометра Б равным 3
 2) показания обоих электрометров станут равными 2
 3) показания обоих электрометров станут равными 1
 4) показания электрометров не изменятся



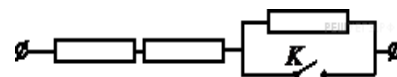
А 4 На графике изображена зависимость силы тока в проводнике от напряжения между его концами. Чему равно сопротивление проводника?

- 1) 5 Ом 2) 4 Ом
3) 0,25 Ом 4) 20 Ом



А 5 На участке цепи, изображенном на рисунке, сопротивление каждого из резисторов равно R . Полное сопротивление участка при замкнутом ключе K равно

- 1) $0,5R$ 2) R 3) $2R$ 4) $3R$



А 6 Как изменится мощность тепловыделения на резисторе, если силу тока в нем увеличить в 3 раза?

- 1) уменьшится в 3 раза 2) уменьшится в 9 раз
3) не изменится 4) увеличится в 9 раз

А 7 Идеальный амперметр и три резистора сопротивлением $R = 11$ Ом, $2R$ и $3R$ включены последовательно в электрическую цепь, содержащую источник с ЭДС, равной 5 В, и внутренним сопротивлением $r = 4$ Ом. Показания амперметра равны

- 1) 50 А 2) 2 А 3) 0,5 А 4) $\approx 0,07$ А

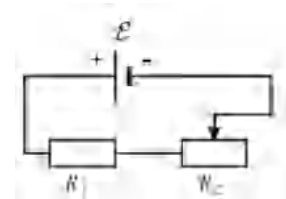
В 1 Емкость плоского воздушного конденсатора равна C , напряжение между его обкладками U , расстояние между обкладками d . Чему равны заряд конденсатора и модуль напряженности электрического поля между его обкладками? Установите соответствие между физическими величинами и выражениями для них.

А) заряд конденсатора; Б) модуль напряженности поля

1. 2. 3. 4.

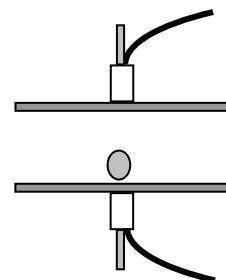
В 2 На рисунке показана цепь постоянного тока, содержащая источник тока с ЭДС \mathcal{E} , резистор R_1 и реостат R_2 . Если уменьшить сопротивление реостата R_2 до минимума, то как изменятся следующие три величины:

- А) сила тока в цепи,
Б) напряжение на резисторе R_1 ,
В) суммарная тепловая мощность, выделяющаяся на внешнем участке цепи? Внутренним сопротивлением источника тока пренебречь.



- 1) увеличится 2) уменьшится 3) не изменится

С 1 Между двумя близко расположенными металлическими пластинами, укрепленными на изолирующих подставках, положили лёгкий незаряженный металлический шарик. На пластины подали заряды разных знаков, присоединив к клеммам высоковольтного выпрямителя. Опишите и объясните поведение шарика.



Промежуточная аттестация (комплексная контрольная работа)

1 вариант

Часть 1

А1. Какое тело из перечисленных ниже оставляет видимую траекторию?

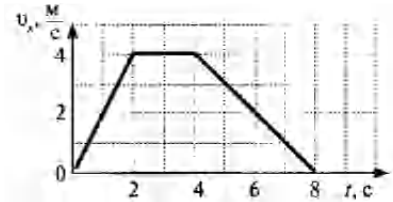
- 1) Камень, падающий в горах 2) Мяч во время игры 3) Лыжник, прокладывающий новую трассу
4) Легкоатлет, совершающий прыжок в высоту

A2. Во время подъема в гору скорость велосипедиста, двигающегося прямолинейно и равноускоренно, изменилась за 8 с от 5 м/с до 3 м/с. При этом ускорение велосипедиста было равно

- 1) $-0,25 \text{ м/с}^2$ 2) $0,25 \text{ м/с}^2$ 3) $-0,9 \text{ м/с}^2$ 4) $0,9 \text{ м/с}^2$

A3. На рисунке представлен график зависимости проекции скорости тела от времени. Какой путь прошло тело за интервал времени от 2 до 8 с?

- 1) 32 м 2) 20 м 3) 16 м 4) 8 м



A4. Точка движется с постоянной по модулю скоростью по окружности радиуса R. Как изменится центростремительное ускорение точки, если ее скорость увеличить вдвое, а радиус окружности вдвое уменьшить?

- 1) уменьшится в 2 раза 2) увеличится в 4 раза 3) увеличится в 2 раза
4) увеличится в 8 раз

A5. Какое ускорение приобретает тело массой 5 кг под действием силы 20 Н?

- 1) $0,25 \text{ м/с}^2$ 2) 4 м/с^2 3) $2,5 \text{ м/с}^2$ 4) 50 м/с^2

A6. Человек вез двух одинаковых детей на санках по горизонтальной дороге. Затем с санок встал один ребенок, но человек продолжал движение с той же постоянной скоростью. Как изменилась сила трения при этом?

- 1) не изменилась 2) увеличилась в 2 раза 3) уменьшилась в 2 раза 4) увеличилась на 50%

A7. Тело массой 2 кг движется со скоростью 3 м/с. Каков импульс тела?

- 1) $5 \text{ кг}\cdot\text{м/с}$ 2) $6 \text{ кг}\cdot\text{м/с}$ 3) $1 \text{ кг}\cdot\text{м/с}$ 4) $18 \text{ кг}\cdot\text{м/с}$

A8. Хоккейная шайба массой 160 г летит со скоростью 36 км/ч. Какова ее кинетическая энергия?

- 1) 1,6 Дж, 2) 104 Дж, 3) 0,8 Дж, 4) 8 Дж

A9. Диффузия в твердых телах происходит медленнее, чем в газах, так как

- 1) молекулы твердого тела тяжелее, чем молекулы газа
2) молекулы твердого тела больше, чем молекулы газа,
3) молекулы твердого тела менее подвижны, чем молекулы газа
4) молекулы твердого тела взаимодействуют слабее, чем молекулы газа

A10. Как изменилось давление идеального газа, если в данном объеме скорость каждой молекулы уменьшилась в 2 раза, а концентрация осталась неизменной?

- 1) увеличилось в 4 раза, 2) увеличилось в 2 раза, 3) не изменилось,
4) уменьшилось в 4 раза

A11. Какое из приведенных ниже выражений соответствует формуле количества вещества?

- 1) $\frac{M}{N_A}$ 2) $\frac{M}{m_0}$ 3) $\frac{N}{N_A}$ 4) $v \cdot N_A$

A12. Воздух в комнате состоит из смеси газов: водорода, кислорода, азота, водяных паров, углекислого газа и др. Какой из физических параметров этих газов обязательно одинаков при тепловом равновесии?

- 1) давление 2) температура 3) концентрация 4) плотность

A13. Газ совершил работу 400 Дж, и при этом его внутренняя энергия уменьшилась на 100 Дж. В этом процессе газ

- 1) получил количество теплоты 500 Дж 2) получил количество теплоты 300 Дж
3) отдал количество теплоты 500 Дж 4) отдал количество теплоты 300 Дж

A14. От водяной капли, обладавшей зарядом $+q$, отделилась капля с электрическим зарядом $-q$. Каким стал заряд оставшейся капли?

- 1) $+2q$ 2) $+q$ 3) $-q$ 4) $-2q$

A15. Два точечных заряда притягиваются друг к другу только в том случае, если заряды

- 1) одинаковы по знаку и по модулю
2) одинаковы по знаку, но обязательно различны по модулю
3) различны по знаку и любые по модулю
4) различны по знаку, но обязательно одинаковы по модулю

A16. Напряжение на концах резистора равно 60 В, сила тока в резисторе равна 3 А. Чему равно сопротивление резистора?

- 1) 0,04 Ом 2) 0,05 Ом 3) 20 Ом 4) 180 Ом

A17. ЭДС источника равна 8 В, внешнее сопротивление 3 Ом, внутреннее сопротивление 1 Ом. Сила тока в полной цепи равна

- 1) 32 А 2) 25 А 3) 2 А 4) 0,5 А

Часть 2

B1. Во время ремонта электроплитки укоротили ее спираль. Как изменились при этом сопротивление спирали, сила тока и мощность электроплитки? Напряжение в сети остается неизменным.

К каждой позиции первого столбца подберите соответствующую позицию второго столбца и запишите в таблицу.

Физическая величина	Изменение величины
А) сопротивление спирали	1) увеличится
Б) сила тока в спирали	2) уменьшается
В) выделяющаяся мощность	3) не изменится

B2. Поставьте в соответствие физическую величину и единицу ее измерения в СИ.

Физическая величина Единица величины

А) скорость	1) м/с^2
Б) путь	2) $\text{кг}\cdot\text{м/с}$
В) импульс	3) $\text{кг}\cdot\text{м/с}^2$
Г) ускорение	4) м/с
	5) м

К каждой позиции первого столбца подберите соответствующую позицию второго столбца и запишите в таблицу.

Часть 3

C1. Два неподвижных заряда 0,5 нКл и 4 нКл находятся в вакууме на расстоянии 6 см друг от друга. Чему равна кулоновская сила взаимодействия между ними?

C2. Автомобиль массой 2 т движется по выпуклому мосту, имеющему радиус кривизны 200 м, со скоростью 36 км/ч. Найдите силу нормального давления в верхней точке траектории.

C3. Тележка массой 2 кг, движущаяся со скоростью 3 м/с, сталкивается с неподвижной тележкой массой 4 кг и сцепляется с ней. Чему будет равна скорость обеих тележек после взаимодействия?

2 вариант

Часть 1

A1. Исследуется перемещение бабочки и лошади. Модель материальной точки может использоваться для описания движения

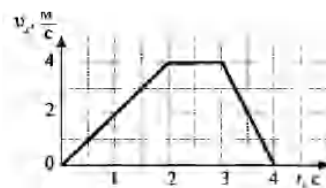
- 1) только лошади 2) только бабочки 3) и лошади, и бабочки
4) ни лошади, ни бабочки

A2. Санки съехали с одной горки и въехали на другую. Во время подъема на горку скорость санок, двигавшихся прямолинейно и равноускоренно, за 4 с изменилась от 43,2 км/ч до 7,2 км/ч. При этом модуль ускорения был равен

- 1) $-2,5 \text{ м/с}^2$ 2) $2,5 \text{ м/с}^2$ 3) $3,5 \text{ м/с}^2$ 4) $-3,5 \text{ м/с}^2$

A3. На рисунке представлен график зависимости проекции скорости тела от времени. Какой путь прошло тело за интервал времени от 0 до 3 с?

- 1) 32 м 2) 20 м 3) 16 м 4) 8 м



A4. Материальная точка движется по окружности с постоянной по модулю скоростью. Как изменится модуль ее центростремительного ускорения, если скорость точки увеличить в 2 раза?

- 1) не изменится 2) уменьшится в 2 раза 3) увеличится в 4 раза
4) уменьшится в 4 раза

A5. Легкоподвижную тележку массой 3 кг толкают с силой 6 Н. Ускорение тележки в инерциальной системе отсчета равно

- 1) 18 м/с^2 2) $1,67 \text{ м/с}^2$ 3) 2 м/с^2 4) $0,5 \text{ м/с}^2$

A6. Человек вез ребенка на санках по горизонтальной дороге. Затем на санки сел второй такой же ребенок, но человек продолжал движение с той же постоянной скоростью. Как изменилась сила трения при этом?

- 1) не изменилась 2) увеличилась в 2 раза
3) уменьшилась в 2 раза 4) увеличилась на 50%

A7. Тело массой 4 кг движется со скоростью 3 м/с. Каков импульс тела?

- 1) $1 \text{ кг}\cdot\text{м/с}$ 2) $0,75 \text{ кг}\cdot\text{м/с}$ 3) $24 \text{ кг}\cdot\text{м/с}$ 4) $12 \text{ кг}\cdot\text{м/с}$

A8. Мальчик подбросил футбольный мяч массой 0,4 кг на высоту 3 м. На сколько изменилась потенциальная энергия мяча?

1) 4 Дж, 2) 12 Дж, 3) 1,2 Дж 4) 7,5 Дж

A9. Какое явление доказывает, что между молекулами действуют силы отталкивания?

- 1) диффузия, 2) броуновское движение, 3) смачивание,
4) существование сил упругости

A10. Внутренняя энергия тела зависит

- 1) только от скорости тела 2) только от положения этого тела относительно других тел
3) только от температуры тела 4) от температуры и объема тела

A11. Что определяет произведение $\frac{3}{2}kT$?

- 1) давление идеального газа 2) абсолютную температуру идеального газа
3) внутреннюю энергию идеального газа 4) среднюю кинетическую энергию молекулы

A12. Температура тела А равна 300 К, температуры тела Б равна 100 °С. Температура какого из тел повысится при тепловом контакте?

- 1) тела А 2) тела Б 3) температуры тел не изменяются
4) температуры тел могут только понижаться

A13. Идеальный газ получил количество теплоты 300 Дж, и внутренняя энергия газа увеличилась на 100 Дж. При этом

- 1) газ совершил работу 400 Дж 2) газ совершил работу 200 Дж
3) над газом совершили работу 400 Дж 4) над газом совершили работу 100 Дж

A14. К водяной капле, имевшей заряд $+3e$, присоединилась капля с зарядом $-4e$. Каким стал электрический заряд объединенной капли?

- 1) $+e$ 2) $+7e$ 3) $-e$ 4) $-7e$

A15. При расчесывании волос пластмассовой расческой волосы заряжаются положительно. Это объясняется тем, что

- 1) электроны переходят с расчески на волосы 2) протоны переходят с расчески на волосы
3) электроны переходят с волос на расческу 4) протоны переходят с волос на расческу

A16. Сила тока, идущего по проводнику, равна 2 А. Какой заряд пройдет по проводнику за 10 с?

- 1) 0,2 Кл 2) 5 Кл 3) 20 Кл 4) 2 Кл

A17. Электрическая цепь состоит из источника тока внутренним сопротивлением 1 Ом с ЭДС, равной 10 В, резистора сопротивлением 4 Ом. Сила тока в цепи равна

- 1) 2 А 2) 2,5 А 3) 10 А 4) 50 А

Часть 2

B1. К концам длинного однородного проводника приложено напряжение U . Провод заменили на другой, площадь сечения которого в 2 раза больше, и приложили к нему

прежнее напряжение. Что произойдет при этом с сопротивлением проводника, силой тока и мощностью?

К каждой позиции первого столбца подберите соответствующую позицию второго и запишите в таблицу.

Физическая величина	Изменение величины
А) сопротивление спирали	1) увеличится
Б) сила тока в спирали	2) уменьшается
В) выделяющаяся мощность	3) не изменится

В2. Поставьте в соответствие физическую величину и единицу ее измерения в СИ.

Физическая величина	Единица величины
А) плотность	1) м/с^2
Б) ускорение	2) $\text{кг}\cdot\text{м/с}^2$
В) сила	3) кг/м^3
Г) объем	4) м/с
	5) м^3

К каждой позиции первого столбца подберите соответствующую позицию второго и запишите в таблицу.

Часть 3

С1. Два неподвижных точечных заряда 4 нКл и 6 нКл, находясь на расстоянии R друг от друга, взаимодействуют с силой $F = 135$ Н. Чему равно расстояние R ?

С2. Автомобиль массой 3 т движется по выпуклому мосту, имеющему радиус кривизны 300 м, со скоростью 54 км/ч. Найдите силу нормального давления в верхней точке траектории.

С3. Человек массой 70 кг прыгнул с берега в неподвижную лодку, находящуюся у берега, со скоростью 6 м/с. С какой скоростью станет двигаться лодка вместе с человеком, если масса лодки 35 кг?